

کد کنترل

3222

D



322D



جمهوری اسلامی ایران
وزارت علوم، تحقیقات و فناوری
سازمان سنجش آموزش کشور

«اگر دانشگاه اصلاح شود مملکت اصلاح می‌شود.»
امام خمینی (ره)

دفترچه شماره ۲
صبح پنج‌شنبه ۱۳۹۹/۵/۳۰

**آزمون اختصاصی
گروه آزمایشی علوم انسانی**

آزمون سراسری ورودی دانشگاه‌های کشور - ۱۳۹۹

مدت پاسخ‌گویی: ۱۶۵ دقیقه

تعداد سؤال: ۱۸۰

عنوان مواد امتحانی آزمون اختصاصی گروه آزمایشی علوم انسانی، تعداد، شماره سؤالات و مدت پاسخ‌گویی

ردیف	مواد امتحانی	تعداد سؤال	از شماره	تا شماره	مدت پاسخ‌گویی
۱	ریاضی	۲۰	۱۰۱	۱۲۰	۲۵ دقیقه
۲	اقتصاد	۱۵	۱۲۱	۱۳۵	۱۰ دقیقه
۳	زبان و ادبیات فارسی	۳۰	۱۳۶	۱۶۵	۳۰ دقیقه
۴	زبان عربی	۲۰	۱۶۶	۱۸۵	۲۰ دقیقه
۵	تاریخ	۱۵	۱۸۶	۲۰۰	۲۵ دقیقه
۶	جغرافیا	۱۵	۲۰۱	۲۱۵	۲۵ دقیقه
۷	علوم اجتماعی	۲۰	۲۱۶	۲۳۵	۱۵ دقیقه
۸	فلسفه و منطق	۲۵	۲۳۶	۲۶۰	۲۵ دقیقه
۹	روان‌شناسی	۲۰	۲۶۱	۲۸۰	۱۵ دقیقه

سال ۱۳۹۹

ویژه نظام آموزشی قدیم

* داوطلب گرامی، عدم درج مشخصات و امضاء در مندرجات جدول ذیل، به منزله عدم حضور شما در جلسه آزمون است.

اینجانب..... با شماره داوطلبی..... با آگاهی کامل، یکسان بودن شماره صندلی خود را با شماره داوطلبی مندرج در بالای کارت ورود به جلسه، بالای پاسخنامه و دفترچه سوالات، نوع و کدکنترل درج شده بر روی دفترچه سوالات و پائین پاسخنامه را تأیید می‌نمایم.

امضاء:

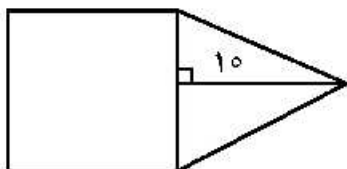
۱۰۱- اگر عبارت مخرج کسرها، صفر نباشند، حاصل عبارت $\frac{x^3 + 3x^2 + 2x}{x(x+1)(x^2-4)} - \frac{2}{x^2-2x}$ ، کدام است؟

(۱) $\frac{1}{x}$ (۲) $\frac{1}{x-2}$ (۳) $\frac{2}{x}$ (۴) $\frac{x}{x-2}$

۱۰۲- در شکل زیر، مساحت مثلث متساوی الساقین، از $\frac{2}{3}$ مساحت مربع به اندازه $\frac{1}{3}$ واحد مربع، کمتر است. مساحت

مثلث، کدام است؟

- (۱) ۳۰
(۲) ۳۵
(۳) ۴۰
(۴) ۴۵



۱۰۳- مجموع ریشه‌های معادله $\frac{2x-1}{x+2} - \frac{x-3}{x-2} = \frac{2}{3}$ ، کدام است؟

- (۱) -۴ (۲) ۴ (۳) ۶ (۴) ۱۲

۱۰۴- توابع f و g ، مطابق جداول زیر، مفروض‌اند. بُرد تابع $\frac{f+g}{f-g}$ ، کدام است؟

x	۲	۲	۵	۱
f	۴	۶	۳	۵

x	۵	۱	۳	۴
g	۶	۲	۲	۱

(۱) $\left\{\frac{5}{3}, 2, -3\right\}$

(۲) $\left\{\frac{5}{3}, 4, -2\right\}$

(۳) $\left\{\frac{7}{3}, 3, -2\right\}$

(۴) $\left\{\frac{7}{3}, 3, -3\right\}$

محل انجام محاسبات

۱۰۵- دو تابع با ضابطه‌های $f(x) = x^2 - 2x - 2$ و $g(x) = \frac{|x|}{x}$ ، در نقطه‌ای با کدام طول، مشترک‌اند؟

- (۱) $1 - \sqrt{2}$ و ۳ (۲) $1 + \sqrt{2}$ و -1 (۳) $1 + \sqrt{2}$ و ۳ (۴) $1 - \sqrt{2}$ و -1

۱۰۶- اگر $\log(x^2 + 19) = 2$ باشد، آنگاه مقدار $\log_4(x-1)$ ، کدام است؟

- (۱) $\frac{3}{2}$ (۲) $\frac{4}{3}$ (۳) $\frac{3}{4}$ (۴) $\frac{2}{3}$

۱۰۷- در بسط عبارت $(a^2 + 4b)^3$ ، ضریب a^2b ، کدام است؟

- (۱) ۴ (۲) ۶ (۳) ۸ (۴) ۱۲

۱۰۸- سهمی $y = -\frac{1}{4}x^2 + ax + b$ با خط $y = 13 - x$ ، در دو نقطه به طول‌های ۲ و ۸، متقاطع‌اند. مختصات رأس این

سهمی، کدام است؟

- (۱) (۹، ۱) (۲) (۳، ۹) (۳) (۳، ۱۲) (۴) (۴، ۱۳)

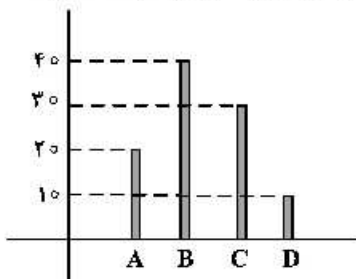
۱۰۹- در تقسیم عبارت $x^3 - x^2 - 2x + 3$ بر $2x + 3$ ، مقدار باقیمانده، کدام است؟

- (۱) -3 (۲) -1 (۳) $\frac{15}{4}$ (۴) $\frac{33}{4}$

۱۱۰- دو خط به معادلات $y = 2x - 10$ و $2y + x + 5 = 0$ در نقطه A ، متقاطع‌اند. فاصله نقطه A ، از مبدأ مختصات، کدام است؟

- (۱) $2\sqrt{2}$ (۲) $2\sqrt{3}$ (۳) ۴ (۴) ۵

۱۱۱- نمودار میله‌ای زیر، درصد تعداد عضوهای متغیر کیفی اسمی است. در نمودار دایره‌ای آن، زاویه مربوط به گروه B ، چند درجه است؟



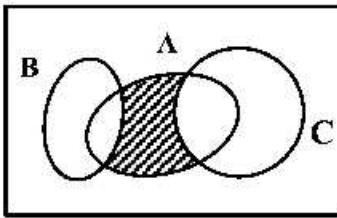
- (۱) ۱۳۲
(۲) ۱۴۴
(۳) ۱۵۰
(۴) ۱۵۶

۱۱۲- به ازای کدام مقدار k ، حاصل ضرب ریشه‌های معادله درجه دوم $(k+3)x^2 - 7x + k = 0$ ، برابر $-\frac{1}{3}$ است؟

- (۱) -2 (۲) -1 (۳) ۱ (۴) ۲

محل انجام محاسبات

۱۱۳- مجموعه‌های A، B و C، مطابق شکل زیر، مفروض‌اند. کدام مورد برای قسمت سایه‌خورده، نادرست است؟



(۱) $A \cap (B' \cap C')$

(۲) $A \cap (B \cup C)$

(۳) $(A - C) \cap (A - B)$

(۴) $(A - C) \cup (A - B)$

۱۱۴- در یک اتومبیل معمولی، ۵ نفر به چند طریق می‌توانند بنشینند، به طوری که ۳ نفر آن‌ها، مجاز به رانندگی باشند؟

(۱) ۶۰ (۲) ۷۲ (۳) ۷۵ (۴) ۸۴

۱۱۵- در جعبه‌ای ۵ مهره سفید و ۴ مهره سیاه یکسان، قرار دارد. به تصادف ۳ مهره خارج می‌کنیم. با کدام احتمال،

۲ مهره سفید و یک مهره سیاه، خارج می‌شود؟

(۱) $\frac{5}{14}$ (۲) $\frac{3}{7}$ (۳) $\frac{10}{21}$ (۴) $\frac{11}{21}$

۱۱۶- داده‌های آماری ۱۳، ۱۸، ۲۰، ۱۸/۵، ۱۴/۵، ۱۲، ۱۵، ۱۷/۵ و ۱۷، با نمودار جعبه‌ای، نشان داده شده است.

انحراف معیار داده‌های داخل جعبه، کدام است؟

(۱) ۱/۵ (۲) ۱/۳ (۳) ۱/۲ (۴) ۱/۱

۱۱۷- در نمودار جعبه‌ای داده‌های ۱۶، ۱۷/۵، ۱۴، ۱۷، ۱۳، ۱۰، ۱۲/۵، ۹، ۱۵ و ۱۳، تفاضل داده‌های ابتدا و انتهای جعبه، کدام

است؟

(۱) ۳ (۲) ۳/۲۵ (۳) ۳/۵ (۴) ۴

۱۱۸- در یک دنباله حسابی، مجموع ۹ جمله اول برابر ۹۰ و جمله هفتم آن ۱۳ است. تفاضل جملات متوالی، کدام است؟

(۱) ۱/۵ (۲) ۲ (۳) ۲/۵ (۴) ۳

۱۱۹- مجموع هشت جمله اول دنباله هندسی، ...، ۱۶، ۳۲، ۶۴، کدام است؟

(۱) ۱۲۸/۵ (۲) ۱۲۸ (۳) ۱۲۷/۵ (۴) ۱۲۷

۱۲۰- حاصل $\lim_{n \rightarrow +\infty} \frac{(\sqrt{2})^{2n}}{4^n}$ ، کدام است؟

(۱) $\frac{1}{2}$ (۲) ۱ (۳) ۲ (۴) ∞

۱۲۱- کدام گزینه، بیانگر پاسخ درست و کامل پرسش‌های زیر است؟
 الف) ایجاد «نظام اقتصادی بین‌المللی آزاد» هدف اصلی کدام موافقت‌نامه بوده است؟
 ب) براساس: «.....» انسان موجودی سیری‌ناپذیر و دارای نیازهای نامحدود است که منابع و ثروت‌های محدود جهان را در اختیار دارد.

ج) کدام مورد، در ارتباط با مراحل بودجه از زمان تهیه تا اجرا، نادرست است؟
 ۱) الف) موافقت‌نامه عمومی تعرفه و تجارت (ب) علم اقتصاد (ج) لایحه بودجه ابتدا در جلسه علنی مجلس مطرح می‌شود و سپس جهت بررسی تخصصی و علمی در کمیسیون بودجه مجلس مورد ارزیابی قرار می‌گیرد.
 ۲) الف) سازمان تجارت جهانی (ب) مبانی اقتصاد سرمایه‌داری (ج) پس از تصویب لایحه بودجه در مجلس این لایحه به قانون بودجه تبدیل می‌شود که در تمامی دستگاه‌های دولتی لازم‌الاجراست.
 ۳) الف) اصل دولت کامل‌الوداد (ب) مبانی اعتقادی اسلام (ج) در کلیه کشورها، قوه مجریه مسئول تهیه پیشنهاد بودجه است. در کشور ما نیز به استناد قانون، توسط دولت تهیه و جهت رسیدگی و تصویب به مجلس تسلیم می‌شود.
 ۴) الف) کمیسیون اقتصادی اکافه (ب) تفکرات مارکسیستی (ج) دیوان محاسبات وظیفه دارد به کلیه حساب‌های وزارتخانه‌ها و سازمان‌ها که از بودجه کل کشور استفاده می‌کنند، رسیدگی کرده تا هیچ هزینه‌ای از محل اعتبارات مصوب تجاوز نکند.

۱۲۲- با توجه به اطلاعات ارائه شده در جدول زیر، نتیجه عملکرد سالیانه یک بنگاه اقتصادی با ۱۵ نفر کارمند و تولید سالیانه ۲۲۰۰ دستگاه هر یک به ارزش: ۱,۲۰۰,۰۰۰ ریال کدام است؟

۱	اجاره بهای ماهیانه کارگاه تولیدی	۱۲,۰۰۰,۰۰۰ ریال
۲	حقوق متوسط ماهیانه هر فرد کارمند تولیدی و اداری	۸۵۰,۰۰۰ ریال
۳	خرید مواد اولیه مورد نیاز سالیانه به ارزش	۱۸۵,۰۰۰,۰۰۰ ریال
۴	هزینه استهلاک سالیانه ماشین‌های تولیدی	معادل ۳۰٪ حقوق سالیانه کارمندان

۱) ۲,۱۱۲,۱۵۰,۰۰۰ زیان (۲) ۲,۱۲۱,۱۵۰,۰۰۰ سود

۳) ۲,۲۱۱,۱۰۰,۰۰۰ زیان (۴) ۲,۱۱۲,۱۰۰,۰۰۰ سود

۱۲۳- کدام گزینه، مبین پاسخ درست و کامل سؤالات زیر است؟
 الف) کدام مورد، تأثیر بورس بر اقتصاد جامعه را نشان نمی‌دهد؟
 ب) در جوامع امروزی معمولاً مشکلی وجود دارد، بویژه در جوامع در حال توسعه این مشکل گاه به یک مشکل حاد و جدی اقتصادی و اجتماعی تبدیل می‌شود و آن «.....» است. در ضمن باید بدانیم که برای تحقق هدف «.....» فراهم آوردن شرایط اقتصادی توسط دولت، ضروری است.

ج) در چه صورتی گروه فعال در زمینه اقتصادی که به صورت غیرقانونی فعالیت‌هایی را انجام می‌دهند، با آسودگی خیال به اعمال خلاف خود ادامه خواهند داد؟

۱) الف) فراهم آوردن سرمایه‌های لازم جهت پروژه‌های دولتی و خصوصی (ب) بیماری - استخدام نیروهای جدید (ج) در صورتی که دولت در عرصه اقتصادی راه افراط و تفریط را در پیش نگیرد.

۲) الف) تنظیم معاملات بازار سرمایه (ب) اشتغال ناقص - کاهش قیمت کالاهای مورد نیاز مردم (ج) زمانی که برخورد قانونی به صورتی باشد که عرصه فعالیت اقتصادی را برای فعالین فراری از قانون تنگ نماید.

۳) الف) جلوگیری از نوسان شدید قیمت‌ها (ب) نابهنجاری‌های اجتماعی - گسترش فعالیت‌های تولیدی (ج) زمانی که فعالین اقتصادی که به صورت قانونمند فعالند در اثر فشار قانونی دولت، سرمایه‌های خود را از کشور خارج کنند.

۴) الف) انجام وظیفه قیومت، وصایت، وکالت برای مشتریان طبق مقررات مربوطه (ب) بیکاری - ایجاد اشتغال کامل و مبارزه با بیکاری (ج) هنگامی که دولت برای تشویق سرمایه‌گذاران قانونمند، نظارت جدی بر فعالیت‌های ثروت‌اندوزی صورت ندهد.

۱۲۴- با توجه به اطلاعات مندرج در جدول زیر:

الف) استهلاک سرمایه ثابت

ب) تولید ناخالص داخلی

ج) تولید خالص داخلی

د) تولید خالص داخلی سرانه در این جامعه چقدر است؟

۱	استهلاک سرمایه ثابت	۱/۳ تولید ناخالص داخلی G.D.P
۲	تولید ۳۰ دستگاه ماشین آلات نساجی به ارزش	۴۸۰ میلیون ریال
۳	ارزش مواد غذایی	۶۰٪ ارزش تولیدات در بخش صنعت
۴	ارزش کالاهای واسطه‌ای و مواد اولیه به کار رفته در بخش صنعت و مواد غذایی	۲۴۰ میلیون ریال
۵	ارزش خدمات ارائه شده به وسیله بخش خصوصی	۵۰٪ مجموع ارزش بخش صنعت و مواد غذایی
۶	تعداد جمعیت	۲۰ میلیون نفر

(۱) الف) ۳۴۸ (ب) ۱/۲۵۱ (ج) ۷۶۸ (د) ۳۸/۴

(۲) الف) ۳۴۸ (ب) ۱/۲۵۱ (ج) ۸۶۷ (د) ۳۴/۸

(۳) الف) ۳۸۴ (ب) ۱/۱۵۲ (ج) ۷۶۸ (د) ۳۸/۴

(۴) الف) ۳۸۴ (ب) ۱/۱۵۲ (ج) ۸۶۷ (د) ۳۴/۸

۱۲۵- پاسخ درست و کامل سؤالات زیر در کدام گزینه، مطرح شده است؟

الف) در صورتی که در بازار، قیمت کالایی در حال کاهش باشد، دلیل پیشروی قیمت به سمت قیمت تعادلی چیست؟

ب) کدام مورد در رابطه با شرایط بازپرداخت تسهیلات اعتباری بانک‌ها به افراد و مؤسسات برای انجام دادن

فعالیت‌ها یا تکمیل پروژه‌های اقتصادی خود، نادرست است؟

ج) متن پیشنهادی بودجه را که «.....» تدوین و پس از تصویب «.....» به «.....» تقدیم می‌شود، چه

می‌نامند؟

د) مطلب «در ادوار گذشته، پیشرفت روزافزون جوامع انسانی، مشکلات جدیدی را در عرصه مبادله به همراه داشت و

در گذر تحولات اقتصادی و ظهور معاملات بزرگ با مشکلاتی مواجه شد.» مربوط به چیست؟

(۱) الف) مازاد ب) اطمینان از توانایی فرد یا مؤسسه نسبت به بازپرداخت بدهی بانک ج) قوه مجریه - هیئت دولت - قوه

مقننه - لایحه بودجه د) مبادله کالا با کالا یا پایاپای

(۲) الف) کمبود ب) بررسی درخواست متقاضی ج) سازمان بودجه - مجلس شورای اسلامی - شورای نگهبان قانون

اساسی - قانون بودجه د) استفاده از رسیدهای کاغذی صادره از سوی صرافان و تجار معتبر

(۳) الف) فزونی عرضه بر تقاضا ب) بازپرداخت بدهی در هر زمانی که بانک اراده کند ج) سازمان مدیریت و برنامه‌ریزی

کشور - هیئت دولت - مجلس شورای اسلامی - لایحه بودجه د) استفاده از پول فلزی در مبادلات

(۴) الف) فزونی تقاضا بر عرضه ب) مطابقت شرایط بانک با فعالیت‌های بانک یا مؤسسه ج) دولت، مجمع تشخیص

مصلحت نظام - شورای نگهبان قانون اساسی - قانون بودجه د) استفاده از کالاهای خاص و دارای خواهان زیاد در هر

منطقه

- ۱۲۶- جدول زیر، بیانگر ارقام درآمدی است که در طول یکسال نصیب یک جامعه فرضی شده است. چنانچه جمعیت کل این جامعه: ۵۰ میلیون نفر باشد. در این صورت:
- الف) کدام ردیف جدول، قیمت خدمات سرمایه و کدام ردیف، اجاره بها یا وجوه مربوط به اجاره است؟
- ب) درآمد ملی این جامعه چقدر است؟
- ج) درآمد سرانه آن کدام است؟
- د) مفهوم و معنای سرانه چیست؟
- قابل توجه: درآمد کارمندان و کارگران موضوع ردیف‌های ۴ و ۵ به تفکیک محاسبه شده است.

ردیف	ارقام درآمدی	ارزش
۱	درآمد صاحبان سرمایه	۹۸۹۷ میلیارد ریال
۲	درآمد صاحبان مشاغل آزاد	$\frac{1}{3}$ مجموع درآمد ردیف‌های ۱ و ۶
۳	سود شرکت‌ها و مؤسسات	$\frac{2}{3}$ درآمد صاحبان سرمایه
۴	دستمزدها	۶۴۴۲ میلیارد ریال
۵	درآمد حقوق‌بگیران	$\frac{1}{5}$ مجموع درآمد ردیف‌های ۴ و ۶
۶	درآمد صاحبان املاک و مستغلات	۸۸۵۶ میلیارد ریال

- ۱) الف) ردیف: ۱ و ردیف ۶ ب) ۶۸۶۴ ج) ۱۳۷۲۸ د) سهم متوسط هر فرد جامعه در میزان درآمد یا تولید آن جامعه
- ۲) الف) ردیف: ۶ و ردیف ۱ ب) ۶۸۶۴ ج) ۱۳۷۲۸ د) سهم متوسط هر فرد جامعه در میزان تولید و درآمد آن جامعه
- ۳) الف) ردیف: ۱ و ردیف ۶ ب) ۶۴۸۶ ج) ۱۳۷۲۸ د) سهم متوسط هر فرد جامعه در میزان تولید آن جامعه
- ۴) الف) ردیف: ۶ و ردیف ۱ ب) ۶۴۸۶ ج) ۱۳۷۲۸ د) سهم متوسط هر فرد جامعه در میزان درآمد آن جامعه
- ۱۲۷- کدام گزینه، در بردارنده پاسخ درست و کامل سؤالات زیر است؟
- الف) «.....» به هم زمانی «.....» با «.....» اشاره می‌کنند و می‌گویند «.....» زمانی که «.....» شد. توانستند حرکت به سمت «.....» را آغاز کنند.
- ب) از چه طریقی می‌توان از مصرف خاص منابع و امکانات در دسترس با قابلیت مصارف متعدد اطلاع یافت؟
- ج) مطلب زیر، مربوط به کدام شرط از شروط محاسبه و سنجش فعالیت‌های تولیدی در حسابداری ملی است؟ «کالاهایی را که تولیدکنندگان تولید و به بازار عرضه می‌کنند یا مصرف‌کنندگان، می‌خرند و به مصرف می‌رسانند یا سایر تولیدکنندگان آن‌ها را خریداری کرده و برای تولید کالاهای دیگر مورد استفاده قرار می‌دهند.»
- د) همه گزینه‌ها، از موارد بررسی حسابداری ملی است، به جز:
- ۱) الف) طرفداران مداخله مشروط دولت در اقتصاد - دوران قرون وسطی - حاکمیت دولت در مسائل دینی و مذهبی - جوامع در حال توسعه - دخالت دولت نامحدود - توسعه ب) کالاهای ضروری ج) تولید در محدوده مکانی معین د) میزان پس‌انداز و سرمایه‌گذاری
- ۲) الف) طرفداران عدم دخالت دولت در اقتصاد - دوران انقلاب صنعتی - حاکمیت و گسترش اقتصاد آزاد - جوامع غربی - دخالت دولت محدود - توسعه ب) دانش فنی ج) فعالیت‌های تولیدی که به تولید کالاها و خدمات نهایی منتهی می‌شوند. د) انجام فعالیت‌های تولیدی در محدوده زمانی معین
- ۳) الف) طرفداران مداخله دولت در اقتصاد - دوران انقلاب صنعتی - حاکمیت دولت در مسائل دینی و مذهبی - جوامع در حال توسعه - دخالت نامحدود - توسعه ب) هزینه فرصت ج) قانونی و مجاز باشد. د) درآمد مردم
- ۴) الف) طرفداران عدم دخالت دولت در اقتصاد - دوران قرون وسطی - حاکمیت اندیشه‌های مسیحیت - جوامع غربی - دخالت دولت محدود - توسعه ب) کالاهایی نهایی ج) از بازار عبور کنند. د) سطح زندگی مردم

۱۲۸- چنانچه در یک جامعه فرضی میزان تولید کل در طی سه سال متوالی به ترتیب سال اول: ۴۰۰۰، سال دوم: ۴۸۴۰ و سال سوم: ۵۹۶۰ هزار میلیارد ریال باشد، با انتخاب سال اول به عنوان سال پایه، میزان تولید کل جامعه در سه سال مورد نظر برحسب قیمت‌های سال پایه به ۴۰۰۰، ۴۲۳۰ و ۴۸۶۰ تغییر می‌یابد، براساس این محاسبات به ترتیب از راست به چپ:

الف) افزایش قیمت‌ها در سال دوم و سال سوم کدام است؟

ب) کدام اعداد مربوط به پدیده تورم در سال دوم و سال سوم در این جامعه است؟

ج) افزایش مقدار تولید در سال دوم و سال سوم، کدام است؟

۱) الف) ۶۱۰-۱۱۰۰ (ب) ۱۱۰۰-۶۱۰ (ج) ۸۶۰-۲۳۰

۲) الف) ۶۱۰-۱۱۰۰ (ب) ۱۱۰۰-۶۱۰ (ج) ۸۶۰-۲۳۰

۳) الف) ۱۱۰۰-۶۱۰ (ب) ۶۱۰-۱۱۰۰ (ج) ۸۶۰-۲۳۰

۴) الف) ۱۱۰۰-۶۱۰ (ب) ۶۱۰-۱۱۰۰ (ج) ۸۶۰-۲۳۰

۱۲۹- پاسخ درست و کامل پرسش‌های زیر در کدام گزینه، مطرح شده است؟

الف) این مطلب مربوطه به چیست؟ «وقتی منابع و امکانات در دسترس را که قابلیت و مصارف متعدد دارد را به مصرف خاصی می‌رسانیم در واقع از مصارف دیگر آن و آثار و نتایجی که می‌توانست به بار آورد صرف‌نظر کرده‌ایم.

ب) عبارت زیر، مربوط به کدام یک از اصول تحقق هدف نهایی گات است؟

«براساس این اصل، مقررات مربوط به کالاهای داخلی و خارجی باید یکسان باشد. هدف اصلی از آن، جلوگیری از

وضع مقرراتی است که بین کالاهای داخلی و خارجی تبعیض قائل می‌شود.»

ج) کدام مورد، از شاخص‌های مهم اقتصادی جامعه محسوب نمی‌شود؟

د) گروه‌های عمده‌ای از تجارت بین‌الملل سود می‌برند. این مطلب به کدام یک از آن‌ها اشاره دارد؟ «صادرات کالا به خارج سبب می‌شود که آنان ارز لازم برای پرداخت بهای کالاهای ضروری وارداتی را به دست آورند.»

ه) اوراق بهاداری که با مجوز «.....» برای تأمین بخشی از منابع مالی مورد نیاز طرح‌های سودآور «.....» در چارچوب عقد «.....» توسط سازمان مجری انتشار می‌یابد «.....» نام دارد.

۱) الف) هزینه فرصت (ب) تسری رفتار داخلی (ج) امنیت ملی (د) مصرف‌کنندگان (ه) بانک مرکزی - تولیدی و خدماتی - مشارکت مدنی - اوراق مشارکت

۲) الف) هزینه متغیر (ب) دولت کامله‌الوداد (ج) تولید ناخالص داخلی (د) عرضه‌کنندگان (ه) بانک مرکزی - بازرگانی و خدماتی - مشارکت مدنی - اوراق قرضه

۳) الف) هزینه نهایی (ب) کاهش تدریجی عوارض گمرکی (ج) تولید ناخالص ملی (د) تولیدکنندگان (ه) وزارت امور اقتصادی و دارایی - تولیدی و خدماتی - مشارکت حقوقی - اوراق مشارکت

۴) الف) هزینه ثابت (ب) ممنوعیت برقراری محدودیت‌های مقداری (ج) درآمد ملی (د) عمده‌فروشان (ه) وزارت امور اقتصادی و دارایی - بازرگانی و خدماتی - مشارکت حقوقی - اوراق قرضه

۱۳۰- اطلاعات مندرج در جدول زیر مربوط به یک کشور فرضی در سه سال پیایی است در صورتی که میزان تورم در سال دوم و سوم به ترتیب: ۳۸۷ و ۱۰۲۰ هزار میلیارد باشد، در این صورت:

سال	۱۳۷۱	۱۳۷۲	۱۳۷۳
تولید کل	۳۹۰۰	۵۰۳۴	؟
ارزش تولید کل به قیمت جاری	۳۹۰۰	۵۰۳۴	؟
ارزش تولید کل به قیمت ثابت	۳۹۰۰	؟	۸۳۹۰

الف) ارزش تولید کل در سال دوم و سوم کدام است؟
ب) مقدار افزایش تولید کل در سال دوم و سوم، کدام است؟
سال پایه = سال ۱۳۷۱

۱) الف) ۴۶۴۷-۹۴۱۰ ب) ۷۴۷-۴۴۹۰

۲) الف) ۵۴۲۱-۹۴۱۰ ب) ۱۵۲۱-۴۴۹۰

۳) الف) ۴۶۴۷-۷۳۷۰ ب) ۷۴۷-۳۴۷۰

۴) الف) ۵۴۲۱-۷۳۷۰ ب) ۱۵۲۱-۳۴۷۰

۱۳۱- پاسخ درست و کامل سؤالات زیر در کدام گزینه، مطرح شده است؟

الف) گاهی برخی صرافان و بازرگانان نمی‌توانستند سکه‌هایی را که طبق رسید، موظف به پرداخت آن‌ها بودند به صاحبانشان برگردانند. به همین جهت در جامعه مشکلاتی به وجود آمد که سبب اختلال در فعالیت‌های اقتصادی شد. دولت‌ها برای جلوگیری از بروز این‌گونه مشکلات به چه اقدامی متوسل شدند؟

ب) محاسبه درآمد سرانه کشورها بر حسب واحد پولی یکسان می‌تواند برای مقایسه اندازه‌گیری چه شاخصی به کار رود؟

ج) منحنی عرضه، نشان‌دهنده چگونگی رفتار اقتصادی کدام گروه است؟

د) نتیجه پیش‌بینی و اجرای برنامه‌های بلندمدت در بعضی از کشورهای در حال توسعه را با چه معیاری نمی‌توان سنجید؟
ه) طرفداران اقتصاد آزاد معتقدند:

۱) الف) جایگزین کردن چک به جای پول نقد ب) توسعه ج) صادرکنندگان د) نرخ مرگومیر ه) دولت در صورتی که تصدّی کارخانه‌ها و صنایع را به دست بگیرد می‌تواند آن‌ها را به صورت کارآمد اداره نماید.

۲) الف) چاپ و انتشار اسکناس ب) رفاه مادی در جوامع مختلف ج) تولیدکنندگان د) امید به زندگی ه) بخش خصوصی به روش بسیار بهتر و مدیریت کارآمدتر می‌تواند از عهده اداره امور اقتصادی برآید.

۳) الف) برعهده گرفتن مسئولیت اقتصادی ب) خط فقر و درآمد معیشتی ج) مصرف‌کنندگان د) درآمد سرانه ه) بخش خصوصی به دلیل توجه به سود خویش، صلاحیت لازم برای تصدّی حوزه‌های اقتصادی را ندارد.

۴) الف) تبدیل پول کاغذی به پول ثبّتی یا تحریری ب) رشد ج) واردکنندگان د) نرخ بی‌سوادی ه) بخش خصوصی در کشورهای در حال توسعه، تجربه کافی برای تصدّی فعالیت‌های اقتصادی را ندارد.

- ۱۳۲- اطلاعات ارائه شده در جدول زیر، مربوط به یک جامعه فرضی است، با توجه به مندرجات جدول:
- (الف) حجم پول موجود یا نقدینگی این جامعه، چقدر است؟
- (ب) میزان شبه پول آن چیست؟
- (ج) میزان سپرده پس انداز این جامعه، کدام است؟

۱	ارزش پولی حساب‌های قرض‌الحسنه	۱۴۵۰ واحد
۲	ارزش پولی مجموع اسکناس‌ها	۲۲۰۰ واحد
۳	ارزش پولی موجودی سپرده‌های دیداری و غیردیداری مردم	۱۵۰۰ واحد
۴	ارزش پولی موجودی حساب‌های جاری مردم	۳۵۰ واحد
۵	ارزش معادل مسکوکات در دست مردم	$\frac{1}{5}$ موجودی حساب‌های جاری مردم
۶	موجودی سپرده‌های مدت‌دار مردم	۴۸۰ واحد

- (۱) الف) ۵۰۲۲ (ب) ۲۰۶۰ (ج) ۶۷۰
 (۲) الف) ۵۰۲۲ (ب) ۲۶۰۰ (ج) ۷۶۰
 (۳) الف) ۵۲۲۰ (ب) ۲۰۶۰ (ج) ۷۶۰
 (۴) الف) ۵۲۲۰ (ب) ۲۶۰۰ (ج) ۶۷۰

۱۳۳- کدام گزینه در بردارنده پاسخ درست و کامل پرسش‌های زیر است؟

- (الف) این معنا و مفهوم که با افزایش قیمت، مقدار تقاضا کاهش یافته و در مقابل با کاهش قیمت، مقدار تقاضا افزایش می‌یابد، مربوط به چیست؟
- (ب) بورس چگونه حجم سرمایه‌گذاری را بالا می‌برد؟
- (ج) دولت می‌تواند با سرمایه‌گذاری در بازار بعضی از کالاها و خدمات وارد شود و به تولید و عرضه و فروش آن‌ها بپردازد، در این زمینه دولت چگونه به این فعالیت اقدام می‌کند؟
- (د) کدام عنوان در رابطه با فصل چهارم قانون اساسی ایران، نادرست است؟
- (ه) همه موارد از عناوین خدمات بانکی است؛ به جز:
- (و) مطلب زیر، مربوط به چیست و نمونه‌ای از آن کدام است؟
- «گاه نیز سرمایه‌گذاری جدید در امور ساختمان و نظایر آن و زمینه‌های دیگری صورت می‌گیرد که عواید آن ممکن است، چندین سال بعد نصیب جامعه شود.»

- (۱) الف) صعودی بودن منحنی تقاضا (ب) از طریق پوشش‌دهی کامل معاملات مواد خام (ج) با تأسیس شرکت‌های تعاونی (د) محورهای کلی و ویژگی‌های اساسی نظام اقتصادی کشور از دید قانون اساسی مطرح شده است (ه) قبول امانات و نگهداری سهام و اوراق بهادار و اشیاء قیمتی مشتریان (و) سرمایه‌گذاری‌های مولد - کارخانجات نساجی
- (۲) الف) مستقیم بودن منحنی تقاضا (ب) برقراری ارتباط بین عرضه‌کنندگان و تقاضاکنندگان سرمایه (ج) با تأسیس فروشگاه‌های شهروند و شرکت‌هایی که شهرداری‌ها تأسیس کرده‌اند. (د) عنوان این فصل در رابطه با اقتصاد و امور مالی کشور است (ه) نقل و انتقال وجوه در داخل کشور (و) سرمایه‌گذاری‌های اجتماعی - شبکه‌های بزرگ آبرسانی
- (۳) الف) نزولی بودن منحنی تقاضا (ب) از طریق جذب و به کار انداختن سرمایه‌های راکد (ج) با تأسیس شرکت‌های دولتی (د) در این فصل به امور و مسائل اجتماعی ایران توجه بسیار شده است. (ه) نگهداری فلزات گران‌بها و ارزهای متعلق به دولت (و) هزینه‌های سرمایه‌ای - اجتماعی و زیربنایی.
- (۴) الف) پلکانی بودن منحنی تقاضا (ب) فروش سهام خاص در بازار (ج) با تأسیس فروشگاه‌های رفاه و مؤسسات تولیدی زندان‌ها (د) این فصل، اصول چهل و سوم تا پنجاهم را شامل می‌شود (ه) پرداخت بدهی مشتریان در صورت درخواست آن‌ها (و) سرمایه‌گذاری‌های شالوده‌ای - کارخانجات تولید مواد غذایی

۱۳۴- مندرجات جدول زیر، بیانگر وضعیت توزیع درآمد در کشور A در سال ۱۹۸۰ میلادی براساس شاخص دهک‌ها است. چنانچه:

تفاوت سهام اول و چهارم: ۴ درصد

تفاوت سهام دهک دوم و هفتم: ۵/۵ درصد

تفاوت سهام دهک پنجم و نهم: ۷ درصد

تفاوت سهام ششم و دهم: ۱۵ درصد باشد، در این صورت:

سهام دهک اول و دهک دوم و سهام دهک نهم و سهام دهک دهم به ترتیب چند درصد است؟

جدول وضعیت توزیع درآمد در کشور C مربوط به سال ۱۹۸۰ میلادی		
۱	سهام دهک اول	؟
۲	سهام دهک دوم	؟
۳	سهام دهک سوم	۶ درصد
۴	سهام دهک چهارم	۷ درصد
۵	سهام دهک پنجم	۸ درصد
۶	سهام دهک ششم	۹ درصد
۷	سهام دهک هفتم	۱۰/۵ درصد
۸	سهام دهک هشتم	۱۲/۵ درصد
۹	سهام دهک نهم	؟
۱۰	سهام دهک دهم	؟
صد درصد جمعیت کشور		صد درصد درآمد ملی

(۱) سه - پنج - چهارده و نیم - بیست و سه و نیم

(۲) سه - پنج - پانزده - بیست و چهار

(۳) دو و نیم - شش - پانزده - بیست و سه و نیم

(۴) دو و نیم - شش - پانزده - بیست و چهار

۱۳۵- کدام گزینه، دربرگیرنده پاسخ درست و کامل پرسش‌های زیر است؟

(الف) دلیل اهمیت بسیار زیاد علم اقتصاد در عرصه مسائل اقتصادی چیست؟

(ب) کدام یک با هدف جبران خرابی‌های ناشی از جنگ جهانی دوم در کشورهای عضو به وجود آمد؟

(ج) اگر جامعه‌ای دچار تورم باشد، مقدار تولید کل محاسبه شده، هر سال رقم بزرگ‌تری را نشان می‌دهد، درحالی‌که

این رقم بزرگ به معنای افزایش تولید کل نیست، برای رفع این مشکل:

(د) عبارت «بر این اساس، تولید آن گروه از مردم کشور که در خارج اقامت دارند محاسبه نمی‌شود.» مربوط به

چیست؟

(ه) تولیدکنندگان معمولاً فرصت، تخصص و امکانات لازم را برای فروش تولیدات خود به مصرف‌کنندگان مناطق

دیگر را ندارند، بنابراین این امر مهم چگونه صورت می‌پذیرد؟

(و) در رابطه با تقسیم‌بندی نیازهای عمده و اصلی تولیدکنندگان کالاها و خدمات مختلف، کدام مورد جزء آن‌ها

نیست؟

(۱) (الف) قانونمند بودن پدیده‌های اقتصادی (ب) صندوق بین‌المللی پول (ج) می‌توان با استفاده از قیمت‌های پنج سال

گذشته قیمت تولیدات همان سال را تعدیل داد. (د) تولید ملی (ه) به صورت مبادله کالا با کالا یا سیستم تهاتری این

کار انجام می‌شود. (و) منابع طبیعی

(۲) (الف) کشف و استخراج منابع طبیعی اقتصادی (ب) سازمان بین‌المللی توسعه (ج) می‌توان تولیدات کل کشور را در ده

سال متوالی میانگین گرفت و براساس آن تولید کل سال موردنظر را مقایسه نمود. (د) تولید ناخالص داخلی

(ه) از سوی واسطه‌ها و دلالتان که با این مشاغل اشتغال دارند. (و) نیروی انسانی

(۳) (الف) رفع فقر و بیکاری از جامعه و ارائه روش‌های وصول به رفاه اقتصادی (ب) مؤسسه مالی بین‌المللی (ج) می‌توان اثر

تغییرات قیمت در محاسبه میزان تولید کل جامعه را در هر زمان به آسانی از بین برد. (د) تولید ناخالص ملی (ه) از

طریق مسافرتی که به این مناطق مسافرت می‌کنند. (و) سرمایه

(۴) (الف) آموزش راه انتخاب بهتر به انسان (ب) بانک جهانی (ج) می‌توان سال معینی را به‌عنوان سال پایه انتخاب کرد و

ارزش تولیدات هر سال را برحسب قیمت کالاها و خدمات سال پایه، نه سال جاری محاسبه نمود. (د) تولید داخلی

(ه) از طریق افرادی که شغل آن‌ها خرید محصول در مرکز فروش آن در مناطق مصرف است. (و) تکنولوژی

- ۱۳۶- در میان آثار زیر، «چند اثر منظوم و چند اثر منثور» به ترتیب، به چشم می‌خورد؟
 «شاد بهر، سندیادنامه، شاهنامه ابومنصوری، حدودالعالم، مناظرات اسدی توسی، روض الجنان، الابنیه، گرشاسب‌نامه، خوان اخوان، قابوس‌نامه، طبقات الصوفیه، حدیقه الحقیقه»
- (۱) چهار - هشت (۲) پنج - هفت (۳) شش - شش (۴) هفت - پنج
- ۱۳۷- در عصر انوری به‌جز مضامین اصلی «وصف، مدح، غزل» کدام مضامین، نظر منتقدان شعر را به خود جلب کرده است؟
 (۱) تاریخ‌نویسی، مضامین ملی میهنی، توصیف میدان‌های رزم.
 (۲) مایه‌های حکمی و اخلاقی، برتری یافتن خیر در برابر شر، عشق به حقیقت.
 (۳) تجربه‌هایی از طریق برخورد عقاید و آرای کلامی، مضامین عقلی، تبلیغات مذهبی.
 (۴) بدزبانی و هجاگویی، روی گردانی از دنیا، اندرزگویی‌های فاقد اعتبار علمی و عملی.
- ۱۳۸- کدام گزینه به ترتیب، معرف آثار: «سیاست‌نامه، الابنیه، شاهنامه ابومنصوری، حدائق‌السحر» است؟
 الف) نخستین کتاب نثر فارسی که تنها مقدمه آن به دست ما رسیده است.
 ب) نثر علمی حدوداً با این کتاب آغاز شد. این کتاب در عهد منصور بن نوح سامانی در خواص گیاهان نوشته شد.
 ج) از متون مهم تاریخی و ادبی قرن پنجم است که نویسنده آن را به امر ملک‌شاه سلجوقی در ۵۰ باب نوشت.
 د) این کتاب اولین و مهم‌ترین کتابی است که خاص علم نجوم، هندسه و حساب نوشته شده است.
- (۱) الف، ب، ج، د (۲) ب، د، الف، ج (۳) ج، ب، الف، د (۴) د، ب، الف، ج
- ۱۳۹- پدیدآورندگان «زمزمه بهشت، تصحیح تاریخ سیستان، خداوندنامه» به ترتیب، خالق کدام آثارند؟
 (۱) شکوفه‌ها، سبک‌شناسی، تحفة‌العراقین
 (۲) اشک و معشوق، شهنشاه‌نامه، عبرت‌نامه
 (۳) کالبدهای پولادین، تاریخ تطوّر نظم فارسی، گلشن صبا
 (۴) طلسم شکسته، تصحیح مجمل‌التواریخ و القصص، تحفة‌العراقین
- ۱۴۰- کدام عبارت از نظر تاریخ ادبیات، نادرست است؟
 (۱) هاتف در سرودن ترجیع‌بند معروف خود به نمونه‌های پیشین، از جمله ترکیب‌بند سعدی و ترجیع‌بند کمال‌الدین عبدالرزاق نظر داشته است.
 (۲) از لحاظ شیوه شاعری، فروغی را باید واپسین شاعر طرز هاتف و مشتاق دانست که در غزل‌سرایی از سعدی و حافظ پیروی می‌کرد.
 (۳) مثنوی یوسف و زلیخای آذر بیگدلی در برخی موارد تحت تأثیر سبک دوره صائب بوده است.
 (۴) در دیوان هاتف اخوانیاتی خطاب به آذر بیگدلی و صباحی بیگدلی دیده می‌شود.
- ۱۴۱- «دل‌های خونین» از کدام منظومه نیما گرفته شده و در کدام کتاب منتشر شده است؟
 (۱) افسانه، منتخبات آثار
 (۲) ای شب، ارزش احساسات
 (۳) قصه رنگ پریده، منتخبات آثار
 (۴) قصه رنگ پریده، ارزش احساسات
- ۱۴۲- کدام آثار، همگی از «ادگار آلن پو» است؟
 (۱) تیمور لنگ، سایه، گل‌های بدی
 (۲) نامه دزدیده شده، سایه، سوسک طلایی
 (۳) سوسک طلایی، فصلی در دوزخ، کلاغ
 (۴) کلاغ، ضربات متقابل، جنایت در کوی غسل‌خانه
- ۱۴۳- کدام کشور سرچشمه مکتب ناتورالیسم بود و پیشگامان این مکتب چه کسانی هستند؟
 (۱) فرانسه - بالزاک، فلور، استاندال
 (۲) آلمان - هنریک ایبسن، امیل زولا، فلور
 (۳) آمریکا - امیل زولا، جان اشتاین بک، استاندال
 (۴) آلمان - جان اشتاین بک، بالزاک، هنریک ایبسن
- ۱۴۴- در مقابل نام کدام کشور، مشهورترین هنرمندان رمانتیک آن، همگی درست آمده است؟
 (۱) آلمان: ویلهلم شلگل، گوته، کالریج
 (۲) انگلستان: لرد بایرون، شلی، ویلیام بلیک
 (۳) روسیه: پوشکین، ویلیام وردزورث، لرمانتوف
 (۴) فرانسه: ویکتور هوگو، گوستاو فلور، والتر اسکات

۱۴۵- نخستین کسی که با شکستن محور عروضی در شعر عرب، شعر نو را تجربه کرد چه کسی است و روش جدید شعر

آزاد او در کدام مجموعه کامل می‌شود؟

- (۱) جبران خلیل جبران، شراره‌ها و خاکسترها
(۲) کامل سلیمان، اللاجنه زن آواره
(۳) احمد زکی ابوشادی، قضایای شعر معاصر
(۴) نازک‌الملائکه، شراره‌ها و خاکسترها

۱۴۶- کدام بیت، فاقد تشبیه و دارای «مجاز و ایهام» است؟

- (۱) خواهم ز پس پرده تقوا به در افتم
(۲) نه طره‌ات غم شب‌های تار من دارد
(۳) چون بلبل دل سوخته را بال شکستند
(۴) من آن نیام که کند یار اجتناب از من

۱۴۷- آرایه‌های بیت زیر کدام‌اند؟

- «ز باغ حسن خود بر خور که من در سایه سروت
(۱) تشبیه، جناس، ایهام، کنایه
(۲) استعاره، مجاز، کنایه، ایهام
(۳) تشبیه، استعاره، جناس، مجاز
(۴) کنایه، ایهام، مجاز، واج‌آرایی

۱۴۸- آرایه‌های بیت زیر کدام‌اند؟

- «تو داری طاق ابرویی که جفتش نیست در عالم
(۱) تشبیه، تضاد، ایهام، جناس تام
(۲) تشبیه، مجاز، ایهام تناسب، تضاد
(۳) پارادوکس، جناس ناقص، کنایه، اغراق
(۴) استعاره، ایهام، اغراق، پارادوکس

۱۴۹- کدام بیت، فاقد مجاز است؟

- (۱) گر بر سر خاک من بنشینی و برخیزی
(۲) به غمزه نرگس مستت بریخت خون دلم
(۳) سر اگر در سر کار تو کنم دوری نیست
(۴) سهل است به خون من اگر دست برآری

۱۵۰- در همه ابیات آرایه‌های تشبیه، استعاره و جناس وجود دارد؛ به جز:

- (۱) نشد از گوش دلم زمزمه نغمه چنگ
(۲) مگذار مطرب را دمی کز چنگ بنهد چنگ را
(۳) ای ترک آتش رخ بیار آن آب آتش‌فام را
(۴) ای رخت آینه جان، می چون زنگ بیار

۱۵۱- آرایه‌های مقابل همه ابیات کاملاً درست است؛ به جز:

- (۱) مشو درهم رخت گر شد کبود از سیلی اخوان
(۲) حرص در هنگام پیری از غلاف آید برون
(۳) حرف حق گفتن به خون خویش فتوی دادن است
(۴) تا روی کند عیش و طرب پشت به خم ده

۱۵۲- آرایه‌های «اغراق، تشبیه، حس‌آمیزی، حسن تعلیل، کنایه» به ترتیب، در کدام گزینه آمده است؟

- که بر خار و خس ما هر کفی ساحل تواند شد
شیرین ز شکرخند تو چون مور ماند بیش‌تر (استعاره، اسلوب معادله)
از تازگی خط تو تقویم کهن شد
پنبه چون حلاج از مستی ز مینا بر مدار (ایهام، استعاره)
هر وحشی که با من دیوانه رام شد
تا پشت کند محنت و غم روی به می کن (تضاد، حسن تعلیل)
داغ جگر لاله ستان ناف ختن شد
تا ز آینه خاطر ببرد زنگ مرا
(الف) تو کز سنگین رکابی لنگری، سامان گشتی کن
(ب) کامت شکرین باد که هر رخنه ای از دل
(ج) ریحان که رخ گلشن ازو تازه و تر بود
(د) شد شوق من به الفت لیلی یکی هزار
(ه) بوی خوش آهوی تو بر دشت گذر کرد
(۱) ج، ده، الف، ب، ه (۲) ده، ه، ب، الف، ج
(۳) ده، ج، ب، ه، الف (۴) ه، ب، د، ج، الف

۱۵۳- قافیه در کدام بیت «یک گروه قیدی» است؟

- (۱) ای تاب داده گیسو حالی است بر دل من
- (۲) آشفنگان عشقت گیرم که جمع گردند
- (۳) با این سپاه مزگان از خانه گر درآیی
- (۴) از لعل و چشمت آخر دیدی که شد فروغی

۱۵۴- قافیه در کدام بیت «غلط» است؟

- (۱) مرا چون خلیل آتشی در دل است
- (۲) اجل ناگهان در کمیتم گشود
- (۳) نه خود را به آتش به خود می‌زنم
- (۴) گدایی که از پادشاه خواست دخت

۱۵۵- در همه ابیات حذف «همزه» به چشم می‌خورد؛ به جز:

- (۱) برون خرام و ببر گوی خوبی از همه کس
- (۲) چو عندلیب فصاحت فرو شد ای حافظ
- (۳) چو عطرسای شود زلف سنبلی از دم باد
- (۴) به زلف گوی که آیین دلبری بگذار

۱۵۶- وزن بیت زیر، با کدام بیت یکسان است؟

- «فغان که منزل دور و دراز وادی عشق»
- (۱) به سیر ماه از محفل مخوان پروانه ما را
 - (۲) سیاه در دو جهان باد روی موی سفید
 - (۳) به اسیران بلا ملک امان فرمودند
 - (۴) نفعات صبح دانی ز چه روی دوست دارم

۱۵۷- در بیت زیر، همه اختیارات شاعری یافت می‌شود؛ به جز:

- «قوت بازوی پرهیز به خوبان مفروش»
- (۱) بلند تلفظ کردن مصوت کوتاه، قلب
 - (۲) کوتاه تلفظ کردن مصوت بلند، ابدال
 - (۳) آوردن فاعلاتن به جای فعلاتن، حذف همزه
 - (۴) بلند بودن هجای پایان مصراع، بلند تلفظ کردن مصوت کوتاه

۱۵۸- کدام ابیات را می‌توان به دو صورت دسته‌بندی هجایی کرد؟

- (الف) عشقم آتش زد و آب مژه از سر بگذشت
- (ب) وقتی نشد که بی‌دوست بر حال خود نگریم
- (ج) ای بت دل‌پسند من هر سر موت بند من
- (د) نقد جان بر سر سودای جنون باخته‌ایم
- (ه) از بس عرق شرم نشسته است به رویم

(۱) الف، ج

(۲) الف، ه

(۳) ب، د

(۴) ب، ه

از تاب بی‌حسابت وز پیچ بی‌شماره
جمع از کجا توان کرد دل‌های پاره پاره
تسخیر می‌توان کرد شهری به یک اشاره
ممنون به یک تبسم، قانع به یک نظاره

که پنداری این شعله بر من گل است
همان به که آن نازنینم کشد
که زنجیر شوق است در گردنم
قفا خورد و سودای بیهوده پخت

سزای حور بده رونق پری بشکن
تو قدر او به سخن گفتن دری بشکن
تو قیمتش به سر زلف عنبری بشکن
به غمزه گوی که قلب ستمگری بشکن

نکرد دل تهی از ناله چون جرس ما را
که می‌گردد خنک از پرتو مهتاب عیش ما
که همچو صبح، گران‌سنگ ساخت خواب ما
به فقیران گدا گنج سلاطین دادند
که به روی دوست ماند که پرافکند نقابی

که در این خیل حصاری به سواری گیرند»

پی آن گوهر یک دانه به دریا زده‌ام
روزی نشد که در عشق بر کار خود نخندیم
کاکل تو کمند من طره تابدار هم
ایمن از وسوسه عقل زیان کار شدیم
محروم ز نظاره آن روی نکویم

۱۵۹- با توجه به بیت زیر همه موارد از دیدگاه «عروض و قافیه» درست است؛ به جز:

«در نمازم خم ابروی تو در یاد آمد حالتی رفت که محراب به فریاد آمد»

- (۱) وزن بیت «فاعلاتن فاعلاتن فاعلاتن فعلن» است.
- (۲) در بیت فوق قافیه براساس قاعده «۲» آمده است.
- (۳) شاعر از اختیارات شاعری «ابدال» و حذف همزه استفاده کرده است.
- (۴) در مصراع اول دو بار و در مصراع دوم یکبار، «حذف همزه» صورت گرفته است.

۱۶۰- وزن عروضی کدام مصراع در مقابل آن «غلط» آمده است؟

- (۱) گوش مرا کی سر شنیدن پند است (مفتعلن فاعلن مفتعلن فع)
- (۲) بی‌دلان را خبری از دل غارت‌زده نیست (فاعلاتن فاعلاتن فاعلاتن فعلن)
- (۳) وصل تو نصیب دل صاحب نظری نیست (مفعول مفاعیل مفاعیل فعولن)
- (۴) عمری که صرف عشق نگردد بطالت است (مفعول فاعلاتن مفاعیل فاعلن)

۱۶۱- نام وزن عروضی کدام مصراع در مقابل آن «غلط» آمده است؟

- (۱) با من سخن ز لعل روان‌بخش یار کن (مضارع مثنی اُخرِب مَکفوف مَحذوف)
- (۲) مجمع دل‌های پراکنده چیست (سریع مسدس مطوی مکشوف)
- (۳) گر کان نمک خواهی لعل نمکینش بین (هزج مثنی اُخرِب)
- (۴) مژگان مردم افکن چشمان کافرش بین (رجز مثنی مطوی)

۱۶۲- مفهوم «ناپایداری روزگار، توصیه به تهجد، فضیلت قناعت و مذمت نفاق» به ترتیب، از کدام ابیات دریافت می‌شود؟

- | | | | |
|--------------------------------------|--------------------------------------|------------------------------------|---|
| الف) چو فرد آینه با کاینات یک رو باش | ب) خواب شیرین بودش بستر و بالین صائب | ج) بر حسن زود سیر بهار اعتماد نیست | د) به غفلت مگذران چون شمع شب را از سیه کاری |
| ۱) ب، الف، د، ج | ۲) ج، الف، د، ب | ۳) ج، د، ب، الف | ۴) ب، ج، د، الف |

۱۶۳- در همه ابیات شاعر «مغتنم شمردن عمر» را توصیه می‌کند؛ به جز:

- (۱) اگر از نو بهاران برگ سبزی نیست در بارت
- (۲) سرآمد در غم سود و زیان سرمایه عمرت
- (۳) به فکر آشیان آرایی افتادی نمی‌دانی
- (۴) به غفلت مگذران یکسر بهار زندگانی را

۱۶۴- مفهوم بیت زیر از کدام بیت، دریافت می‌شود؟

- «سجده نتوان کرد بر آب حیات»
- (۱) زین بند گران که این تن نوست
 - (۲) به جان جهان کی رسد رهرو عشق
 - (۳) بر گذر زین تنگنای ظلمت اینک روشنی
 - (۴) تن آسوده نداند که دل خسته چه باشد

۱۶۵- مفهوم بیت زیر، با همه ابیات تناسب دارد؛ به جز:

- «به دنبال محمل چنان زار گریم»
- (۱) چون می‌روی کجا نشود ملک دل خراب
 - (۲) به هر دیار که محمل رود، ز چشم منش
 - (۳) ز چشم ما نرود کاروان به وقت رحیل
 - (۴) به چشم اشکبار من چه خواهد کرد حیرانم
- که از گریه‌ام ناقه در گل نشیند»
- ما را که رود می‌رود از ناودان چشم
- گذار بر سر آب زلال خواهد بود
- به حکم آن که ز سیلاب نگذرد محمل
- که آتش را به چشم آن روی تابان آب گرداند

■ ■ عین الأنسب للجواب عن الترجمة أو التعريب أو المفهوم (۱۶۶ - ۱۷۱)

۱۶۶- « قد دك الإسلام حصون الجاهلية بالهدى و أنشط بالعلم عزائم الإنسان! »:

- ۱) اسلام دژ جاهلیت را با هدایتش منهدم کرده و با علم، تصمیمات انسان را با نشاط کرده است!
- ۲) اسلام درّه‌های نادانی را با هدایت نابود کرده است و با علم تصمیمهای انسان را فعال نموده است!
- ۳) اسلام قلعه‌های نادانی را با هدایت کردن خراب کرد و بواسطه علم اراده انسان را فعال نموده است!
- ۴) اسلام قلعه جاهلیت را با هدایت خود ویران نموده و با وجود علم، اراده‌های انسان را با نشاط‌تر کرده است!

۱۶۷- « لم يكن الكفار يظنون أن الله يقدر أن يجمع عظام الإنسان بعد موته! »:

- ۱) گمان کفار این نبود که خدا قادر به جمع‌آوری استخوانهای انسان بعد از مرگش است!
- ۲) کافران تصور نمی‌کنند که خداوند قادر است استخوان انسان را بعد از مرگ او گرد آورد!
- ۳) کفار گمان نمی‌کردند که خداوند می‌تواند استخوانهای انسان را بعد از مرگش جمع‌آوری کند!
- ۴) کافران تصور نکردند که خداوند است که بعد از مرگ انسان استخوانش را گردآوری کرده است!

۱۶۸- « لا تتناول هذا الطعام لأن المواد السكرية الموجودة فيه يُسمنك كثيراً! »:

- ۱) این غذا را نخور زیرا مواد قندی موجود در آن تو را بشدت چاق می‌کند!
- ۲) آن غذایی را که مواد قندیش بسیار است مخور چه باعث چاقیت می‌شود!
- ۳) این غذایی که مواد قندی موجود در آن زیاد است نخور زیرا خیلی چاق‌کننده است!
- ۴) از این غذا مخور چون مواد قندی که در آن وجود دارد بشدت برای تو چاق‌کننده است!

۱۶۹- عین الخطأ:

- ۱) تَقَبَّلَ الأمواج العالیه فی حیاتک،: در زندگی‌ات موجهای بلند را بپذیر،
 - ۲) و لو أخذتک إلى أعماق البحر أحياناً،: اگر چه گاهی تو را به اعماق دریا ببرد،
 - ۳) لأن السمک الذي على سطح الماء،: زیرا ماهی که بر روی آب است،
 - ۴) أنت تراه هادئاً، و هو میّت!، تو او را آرام می‌بینی ولی او دارد می‌میرد!
- ۱۷۰- « این دانش‌آموز ثابت کرده است که با وجود مشکلات زیاد می‌تواند به درس خود ادامه دهد! ». عین الصحیح:

- ۱) لقد أثبت هذا التلميذ أن رغم المشاكل الكثيرة يستطيع أن يواصل درسه!
- ۲) كان هذا التلميذ قد أثبت على رغم كثير من المشاكل يقدر مواصلة درسه!
- ۳) قد أثبتت هذه التلميذة على رغم المشاكل العديدة تقدر أن تستمرّ الدراسات!
- ۴) إن هذه التلميذة تثبت أنها رغم المشاكل الكثيرة، قادرة على أن تواصل الدرس!

- ١٧١- « سه دوست باوفا از ساعت چهار در كلاس شروع به مطالعه كتابي علمي كردندا:»
 (١) بدأ ثلاث أصدقاء الأوفياء يطالعون في أربع ساعات كتاباً علمياً في الصف!
 (٢) بدأت الصديقة الثالثة الوفيّة تطالع السّاعة الرابعة الكتاب العلميّ في الصف!
 (٣) بدأ ثلاثة أصدقاء أوفياء يطالعون من السّاعة الرابعة كتاباً علمياً في الصف!
 (٤) بدأت ثلاث صديقات وفيات طالعن كتاباً علمياً السّاعة الرابعة في الصف!

■ ■ عَيْن الصَّحِيح فِي الإِعْرَابِ وَ التَّحْلِيلِ الصَّرْفِيِّ (١٧٢ - ١٧٤)

١٧٢- ﴿ لَا أَمَلُكَ لِنَفْسِي نَفْعًا وَ لَا ضَرًّا إِلَّا مَا شَاءَ اللَّهُ ﴾:

- (١) شاء: فعل ماضٍ - للغائب - مزيد ثلاثي - معلوم / فعل و فاعله « الله » و الجملة فعلية
 (٢) الله: لفظ الجلالة - اسم - مفرد مذكّر - معرفة (علم) - معرب / فاعل لفعل « شاء » و مرفوع
 (٣) نفعاً: اسم - مفرد مذكّر - اسم فاعل (من فعل مجرد ثلاثي) - نكرة - معرب / مفعول أو مفعول به و منصوب
 (٤) أملك: فعل مضارع - للمتكلم وحده - مزيد ثلاثي (من باب إفعال) - متعدّ / فعل مرفوع و مع فاعله جملة فعلية

١٧٣- « كان في المسجد جماعتان، جماعة يتفقّهون و جماعة يدعون الله و يسألونه! »:

- (١) يتفقّهون: مضارع - مزيد ثلاثي (من باب تفعيل) / فعل و مع فاعله جملة فعلية
 (٢) يسألون: فعل مضارع - مزيد ثلاثي (من باب إفعال) / فعل و مع فاعله جملة فعلية
 (٣) جماعتان: اسم - مثنى مؤنث - نكرة - معرب / اسم « كان » من الأفعال الناقصة، و مرفوع بالألف
 (٤) المسجد: اسم - مفرد منكر - اسم مكان (من فعل مزيد ثلاثي و مصدره « سجود ») - معرف بـأل / مجرور بحرف « في »

١٧٤- « بعد أن يتناول التمساح طعامه يقترب منه نوع من الطيور! »:

- (١) نوع: اسم - مفرد مذكّر - نكرة - معرب / مبتدأ و مرفوع، و الجملة اسمية
 (٢) طعام: اسم - مفرد منكر - اسم مبالغة (اشتقاقه من مادّة « ط ع م ») / مفعول أو مفعول به و منصوب
 (٣) يتناول: فعل مضارع - للغائب - مزيد ثلاثي (من باب تفاعل) - لازم / فعل و فاعله « التمساح » و الجملة فعلية
 (٤) يقترب: مضارع - للغائب - مزيد ثلاثي (من باب افتعال) / فعل مرفوع و فاعله « نوع » و الجملة فعلية

■ ■ عَيْنُ الْمُنَاسِبِ لِلْجَوَابِ عَنِ الْأَسْئَلَةِ التَّالِيَةِ (١٧٥-١٨٥)

١٧٥- عَيْنُ الْخَطَأِ فِي ضَبْطِ حَرَكَاتِ الْكَلِمَاتِ:

- (١) لِلزَّرَافَةِ صَوْتٌ يُحَذِّرُ الْحَيَوَانَاتَ حَتَّى تَبْتَغِدَ عَنِ الْخَطَرِ!
- (٢) نَقَارُ الْخَشَبِ طَائِرٌ يَنْقُرُ جِذَعَ الشَّجَرَةِ بِمِنْقَارِهِ عَشْرَ مَرَّاتٍ فِي الثَّانِيَةِ!
- (٣) رَأَيْتُهُ يُحِبُّ الْفَقِيرَ وَ يَفْكَ الْأَسِيرَ وَ يَرْحَمُ الصَّغِيرَ وَ يَعْرِفُ قَدْرَ الْكَبِيرِ!
- (٤) بِلَادُنَا غَنِيَةٌ بِالنَّفْطِ وَ هِيَ تُصَدِّرُ قِسْمًا مُهِمًّا مِنْهُ إِلَى الْبِلَادِ الْصَّنَاعِيَّةِ!

١٧٦- عَيْنُ الْخَطَأِ عَنِ النِّسْبَةِ:

- (١) أَخَذَتْ هَذِهِ الْكَاتِبَةُ تَكْتُبُ مَقَالَةَ أَدِيبِيَّةً!
- (٢) يَجِبُ أَنْ لَا تَمْنَعُنَا الْأُمُورَ الدُّنْيَايَةَ مِنَ الْعِبَادَةِ!
- (٣) إِنَّ بَعْضَ السُّورِ فِي الْقُرْآنِ الْكَرِيمِ مَدَنِيَّةٌ!
- (٤) أَحْدَثَ وَالِدُ صَدِيقِي فِي شَارِعِنَا مَرْكَزًا تِجَارِيًّا!

١٧٧- عَيْنُ مَا لَيْسَ فِيهِ ضَمِيرٌ فَصَلِّ:

- (١) النَّاسُ هُمُ الَّذِينَ يَكُونُونَ فَقَرَاءً إِلَى اللَّهِ!
- (٢) أَصْحَابُ الْعِلْمِ هُمُ الْمُجْتَهِدُونَ الْفَائِزُونَ!
- (٣) السَّابِقُونَ السَّابِقُونَ هُمُ الْمُقْرَبُونَ عِنْدَ اللَّهِ تَعَالَى!
- (٤) الرِّجَالُ الْعُقَلَاءُ هُمُ الَّذِينَ وَعَظَتَهُمْ تِجَارِبُ الْحَيَاةِ!

١٧٨- عَيْنُ عِلْمَةِ الْإِعْرَابِ فِي اسْمٍ وَ خَيْرِ النُّوَاسِخِ مِنْ نَوْعِ التَّقْدِيرِيِّ:

- (١) لَسْتُ كَيُوسُفَ فِي النَّبُوَّةِ، وَلَكِنِّي وَقَعْتُ فِي الْبَيْتِ مِثْلَهُ، فَكُنْ لِي مُعِينًا!
- (٢) إِنَّ الدُّنْيَا أَسْحَى مِنْ أَنْ تُضَيِّقَ طَرِيقَ تَوْفِيقِي بِتَوْفِيقِ الْآخَرِينَ!
- (٣) كُنْ بَسِيطًا عِنْدَ الْغِنَى وَ صَادِقًا عِنْدَ الْفَقْرِ!
- (٤) لَا عَمَلَ لَكَ فِي يَوْمَيْنِ: الْأَمْسَ وَ الْغَدَ!

١٧٩- عَيْنُ مَا فِيهِ الْمَوْكَدُ الْمَعْنَوِيُّ:

- (١) لَا يَتَقَدَّمُ الْإِنْسَانُ إِلَّا بِتَحَمُّلِ تَحَمُّلِ الْمَشَقَّاتِ!
- (٢) هَذِهِ الشَّجَرَةُ الصَّغِيرَةُ تَرْزُقُنَا كُلَّنَا سَنِينَ مَتَوَالِيَةٍ!
- (٣) إِنَّ الْمَعْلَمَ الْمَعْلَمَ يَضْحَى بِنَفْسِهِ فِي تَعْلِيمِ أَوْلَادِهِ!
- (٤) كُلُّ ثَرَوْتِهِ كَانَ بَيْتًا صَغِيرًا فِيهِ أَثَاثٌ قَلِيلٌ وَ قَدِيمٌ!

١٨٠- عَيْنُ الْمَفْعُولِ الْمَطْلُوقِ يَخْتَلِفُ عَنِ الْبَاقِي:

- (١) عَذَّبَ اللَّهُ الْكُفَّارَ فِي الدُّنْيَا تَعَذُّبًا لَا يَنْسَوْنَ نَتِيجَةَ سُوءِ عَمَلِهِمْ!
- (٢) رَتَّلَ الْقَارِئُ الْقُرْآنَ أَمَامَ النَّاسِ تَرْتِيلًا اسْتَمَعَهُ الْحَضَارُ كُلُّهُمْ بِدَقَّةٍ!
- (٣) قَدَّمَ الشَّعْبُ كَثِيرًا مِنَ الشَّبَابِ فِي الْحَرْبِ تَقْدِيمًا اسْتَطَاعَ اسْتِغْنَاءَ أَمَامِ الْأَعْدَاءِ!
- (٤) عَلَى الطُّلَّابِ اجْتِهَادًا وَ لَا تَكَاسُلًا وَ عَلَيْهِمْ أَنْ يَسْتَفِيدُوا مِنَ الْفُرْصِ فِي حَيَاتِهِمْ!

۱۸۱- عین الصحیح:

- (۱) ما أعظمت ثقافتنا، إن يعرفها الشباب!
 (۲) نعم لسان، اللسان الصادق الذي ينفع الناس!
 (۳) ما أنشط طلابٌ يدرسون بجدٍ كلَّ الأيام!
 (۴) نعم الطريق طريقك، إن تسمع كلام أستاذك!

۱۸۲- عین کلمتی «خیر، شرّ» تَمییزاً:

- (۱) لا خیر فی الحسد و لا شرّ فی الصدق!
 (۲) إن تبعد الشرّ من نفسك یقرب منك الخیر!
 (۳) من یزرع الخیر فی حیاته لا یحصد الشرّ أبداً!
 (۴) من یعمل ذرّة واحدة خیراً یتعد منه ذرتان اثنتان شرّاً!

۱۸۳- عین المنادی یختلف (من حیث الإعراب):

- (۱) یا ربّ؛ حقّق لنا خیر ما نسأل و ما لا نسأل!
 (۲) یا أيّها العبد الصّالح؛ أعبد الله رغبةً و شکرًا!
 (۳) یا طالب؛ اسع فی خدمة روحك أكثر من جسمك، تفز!
 (۴) یا مسلمة؛ إن كانت لك بصیرة فی الدین، فهذا فضل من الله!

۱۸۴- عین ما لیس « تشبیهاً مجملاً مؤکداً »:

- (۱) الذّین یدعون بالخیر بعملهم، كأنهم قطرات المطر علی الأرض!
 (۲) الإسلام ینبوع المعرفة، لا تطلبه إلاّ قلوب المؤمنین!
 (۳) إن عملنا صديق ینقی لنا دائماً!
 (۴) لیست المعاصی إلاّ سمّاً مهلکاً!

۱۸۵- عین ما لیس فیهِ من « علم البدیع »:

- (۱) لا تتسنّ عهدك مع الله فی الرّخاء كما فی الشّدّة!
 (۲) ناجیناک ربّنا بالدعاء، حین نرى الآخرین فی البلاء!
 (۳) من أسباب السعادة أن یكون لك قلب یعفو أخطاء الآخرین!
 (۴) كان عندنا ضیوف كثیرون، کُنّا عند الباب واقفین، إذ هم دخلوا مُکرّمین!

- ۱۸۶- موارد زیر، به ترتیب به کدام تمدن‌های باستانی ایران مربوط هستند؟
- الف- تزئین ظروف فلزی با بدن جانوارن
ب- تولید ابزارهایی از جنس سنگ صابون
- (۱) جیرفت - ایلام (۲) ایلام - جیرفت (۳) سیلک - شهر سوخته (۴) شهر سوخته - سیلک
- ۱۸۷- کدام گزینه، دربارهٔ محل آتشکده‌های دورهٔ ساسانی و اختصاص آن‌ها به طبقات و گروه‌های اجتماعی درست است؟
- (۱) آتشکدهٔ آذر فرنیغ در فارس، ویژهٔ جنگ‌جویان بود.
(۲) آتشکدهٔ آذر برزین مهر در خراسان، مخصوص کشاورزان بود.
(۳) آتشکدهٔ آذر فرنیغ در خراسان به موبدان زرتشتی تعلق داشت.
(۴) آتشکدهٔ آذر برزین مهر در فارس به موبدان زرتشتی اختصاص داشت.
- ۱۸۸- توزیع نامساوی درآمدهای ناشی از فتوحات، در عصر کدام خلیفه شروع شد و کدام نتیجه را سبب گردید؟
- (۱) خلیفه سوم - سپاه اسلام برای نخستین بار به خاک اروپا قدم گذاشتند.
(۲) خلیفه سوم - روند فتوحات در آسیای صغیر و شمال آفریقا کند گردید.
(۳) خلیفه دوم - روند فتوحات را سرعت بخشید و انگیزهٔ فرماندهان سپاه را بیشتر کرد.
(۴) خلیفه دوم - روحیه مال‌اندوزی همراه با تبعیض‌های اقتصادی در جامعه اسلامی تشدید گردید.
- ۱۸۹- کدام اقدام یعقوب لیث صفاری، باعث شد خلیفهٔ عباسی وی را یاغی بخوانند؟
- (۱) لشکرکشی ناموفق وی به بغداد (۲) تأسیس حکومت بدون اذن و منشور خلیفه
(۳) تصرف نیشابور و برانداختن دولت طاهریان (۴) عدم سرکوب خوارج و مدارا با کفار در مرزهای شرقی
- ۱۹۰- در کدام گزینه، وضعیت زندگی سرف‌ها در دورهٔ حاکمیت نظام فئودالیسم در اروپای قرون وسطا، به‌درستی توصیف شده است؟
- (۱) صاحبان مزارع کوچک و خارج از محدوده اقتدار فئودال‌ها بودند.
(۲) افراد حاشیه‌نشین شهرهای آن دوره بودند و زندگی سختی داشتند.
(۳) آن‌ها حق ترک مزرعه و املاک ارباب خود و رفتن به جای دیگر را نداشتند.
(۴) در شرایط سخت می‌توانستند مزرعه و املاک ارباب خود را ترک و به شهرها مهاجرت کنند.
- ۱۹۱- کدام مورد دربارهٔ وضعیت طبقه متوسط جامعه فرانسه در آستانه انقلاب آن کشور در اواخر قرن ۱۸، درست است؟
- (۱) علاقه اصلی آن‌ها زمین‌داری بود و از پرداخت مالیات معاف بودند.
(۲) به‌دلیل وجود آرامش و امنیت در کشور، از نظام سلطنت رضایت داشتند.
(۳) به کارهایی چون وکالت و نویسندگی اشتغال داشتند و اغلب تحصیل کرده بودند.
(۴) بیشتر اعضای این طبقه باسواد و تحصیل کرده و از معافیت مالیاتی برخوردار بودند.
- ۱۹۲- کدام مورد، به بلژیک از جملهٔ کشورهای اروپایی، با روی آوردن به استعمارگری نسبت داده شده است؟
- (۱) کشور کنگو را به حيله و زور به تصرف خود در آورد.
(۲) با اتکا به قدرت نظامی در اندیشهٔ کشورگشایی برآمد.
(۳) برای کسب مستعمره در آفریقا، روم باستان را الگو قرار داد.
(۴) به‌دلیل محدودیت خاک خود به توسعه‌طلبی در اروپا روی آورد.
- ۱۹۳- کدام گزینه، دربارهٔ جدا شدن قندهار و الحاق مجدد آن به خاک ایران در دورهٔ صفوی درست است؟
- (۱) در دورهٔ شاه صفی از ایران جدا شد و شاه عباس دوم آن را به خاک ایران بازگرداند.
(۲) در دورهٔ سلطان محمد خدابنده از ایران جدا شد و شاه صفی بار دیگر آن را به خاک ایران ضمیمه کرد.
(۳) در دورهٔ شاه صفی، ایران تسلط خود را بر قندهار از دست داد و شاه سلیمان موفق شد آن را به قلمرو ایران بازگرداند.
(۴) در دورهٔ کوتاه سلطنت اسماعیل دوم از تسلط ایران خارج شد و محمد خدابنده آن را به قلمرو ایران ملحق کرد.

- ۱۹۴- کدام پادشاه قاجار در سال‌های پایانی سلطنتش، ناامید و مأیوس از انجام اصلاحات، بیشتر وقت خود را به سرودن شعر و شکار گذراند؟
 (۱) محمد شاه (۲) احمد شاه (۳) فتحعلی شاه (۴) ناصرالدین شاه
- ۱۹۵- در دوره کدام دولت وقت، انگلستان برای تسلط بیشتر بر ذخایر نفت ایران و رقابت اقتصادی با آمریکا و شوروی، قرارداد الحاقی را با ایران به امضا رساند؟
 (۱) ساعد (۲) قوام (۳) منصور (۴) رزم آرا
- ۱۹۶- در تقویم اوستایی دوره ساسانی، مبدأ سال شماری براساس کدام رویداد تعیین می‌شد؟
 (۱) به تخت نشستن هر پادشاه (۲) به دنیا آمدن زرتشت (۳) قیام اردشیر علیه اشکانیان (۴) دوره‌بندی ۱۲۰ ساله
- ۱۹۷- کدام گزینه، درباره «حجاری مربوطه کشتن دیو خشکسالی توسط پادشاه در ایران باستان» صحیح است؟
 (۱) شکلی از مراسم جادویی طلب باران و مربوط به اواخر دوره ساسانی است.
 (۲) از حجاری‌های دوره ساسانی در طاق بستان و یادگار خشکسالی‌های دوره قباد است.
 (۳) مربوط به حجاری‌های تخت جمشید و مؤید نگرانی خاطر ایرانیان درباره مشکل کم آبی است.
 (۴) بقایای یک هنر نمایی و موضوع آن نگرانی از هجوم قبایل وحشی و بیابانگرد به مناطق یکجانشین است.
- ۱۹۸- یک پژوهشگر تاریخی با فهمیدن کدام موضوع، متوجه فساد مالی حکام، ضعف ضرابخانه‌ها و ناتوانی اقتصادی در یک مقطع تاریخی می‌شود؟
 (۱) وفور سکه‌های مسی کم ارزش (۲) عیار پایین سکه‌های آن دوره (۳) ضرب سکه نقره توسط حاکمان ایالات (۴) پنهان کردن سکه‌ها در زیرزمین یا خمره‌ها
- ۱۹۹- اشعار کدام شاعر برای بررسی آراء و اندیشه‌های اسماعیلیان، به پژوهشگران کمک می‌کند؟
 (۱) سیفی بخاری (۲) لسانی شیرازی (۳) نزاری قهستانی (۴) مسعود سعد سلمان
- ۲۰۰- کدام موارد، به ترتیب در شمار اسناد «فرهنگی» و «اقتصادی و اجتماعی» هستند؟
 (۱) وقف‌نامه‌ها - قباله‌های ملکی (۲) آمارهای جمعیتی - اسناد و مکاتبات تجاری (۳) قباله‌های ازدواج - وقف‌نامه‌ها (۴) امتیازنامه انتشار نشریات - وقف‌نامه‌ها

۲۰۱- کدام عبارت، با جمع آوری اطلاعات، به روش کتابخانه‌ای مغایرت دارد؟

- (۱) برجسته‌بینی پدیده‌های طبیعی سطح زمین
- (۲) اندازه‌گیری حجم آب عبوری از مقطع عرضی رود
- (۳) ترسیم شکل کره زمین به وسیله مدل‌های فیزیکی
- (۴) ارسال داده‌های رقومی سنجنده‌ها به گیرنده‌های زمینی

۲۰۲- شهر (الف) با ۲۷۰۰ متر ارتفاع بر روی «دامنه جنوبی البرز مرکزی» و شهر (ب) در ارتفاع ۱۵۰۰ متری، بر روی «دامنه شمالی البرز غربی» واقع شده است. در کدام گزینه شرایط اقلیمی این دو شهر به درستی بیان شده است؟

- (۱) رطوبت دریای خزر سبب افزایش باران و برف و کاهش اختلاف دما در شهر (ب) می‌شود.
- (۲) شهر (ب) نسبت به شهر (الف) به دلیل اختلاف دمای کمتر، از بارش بیشتری برخوردار است.
- (۳) به دلیل اختلاف ارتفاع، میزان رطوبت موجود در هوا، در دو شهر (الف) و (ب) تقریباً برابر است.
- (۴) به دلیل کاهش دما و تراکم بخار آب موجود در هوا، ریزش باران و برف در شهر (الف) بیشتر است.

۲۰۳- با اجرای کدام اقدام، فرصت بیشتری برای انتقال مردم به جای امن، در هنگام وقوع سیل فراهم می‌شود؟

- (۱) ایجاد پایگاه‌های نجات و امداد
- (۲) نصب دستگاه‌های هشداردهنده
- (۳) تقویت پوشش گیاهی حوضه آبریز
- (۴) تعیین حریم سیل‌گیر در اطراف رود

۲۰۴- همه عبارت‌ها، از وظایف جغرافیدانان و منطبق بر مطالعه همه‌جانبه و جامع تمام پدیده‌ها در یک مکان است؛ به جز:

- (۱) بررسی نقش منابع معدنی یک ناحیه در شکل‌گیری شهرهای صنعتی
- (۲) تجزیه و تحلیل علل وجود جنگل‌های بلوط در غرب ایران
- (۳) مطالعه اصول و قوانین حاکم بر جو و ویژگی‌های آن
- (۴) مطالعه نقش پوشش گیاهی در ارتباط با منابع آبی

۲۰۵- همه عبارت‌ها، مفهوم درستی از «نواحی بارشی ایران» را بیان می‌کنند؛ به جز:

- (۱) گلستان و مازندران، در یک ناحیه بارشی قرار گرفته‌اند.
- (۲) با حرکت از گیلان به طرف هرمزگان، میزان بارش کاهش می‌یابد.
- (۳) میزان بارش در آذربایجان، کمتر از کردستان و بیشتر از خزر شرقی است.
- (۴) میزان بارش در خراسان شمالی، کمتر از کردستان و بیشتر از خراسان جنوبی است.



۲۰۶- کدام گزینه، با توجه به تصویر، دلیل مناسبی برای وجود «ساختمان‌های بلندمرتبه» است؟



- (۱) تجارت دریایی و حمل‌ونقل بین‌المللی
- (۲) افزایش تقاضا و بالا بودن قیمت زمین
- (۳) استقرار مؤسسات حمل‌ونقل و مراکز درمانی
- (۴) رونق فعالیت‌های مربوط به تجارت و گردشگری

۲۰۷- کدام موارد، به ترتیب از پیامدهای هوازدگی «شیمیایی و فیزیکی» است؟

- (الف) تشکیل و تکامل خاک در نواحی گرم و خشک
- (ب) خرد شدن سنگ‌ها در نتیجه رشد ریشه درختان
- (ج) محو شدن برجستگی‌های صورت انسان در یک مجسمه سنگی
- (د) تخریب نمای ساختمان‌های مرمری و آهنی در نواحی شرق آسیا

- (۱) الف، ج و (ب، د) (۲) ب، ج و (الف، د) (۳) ج، د و (الف، ب) (۴) د، ب و (الف، ج)

۲۰۸- با توجه به تصویر زیر، چرا بیشترین تأثیر سایش باد، در قسمت پایین و نزدیک به سطح زمین است؟



- (۱) سایش توده‌های سنگی متفرد
- (۲) وجود حواشی پرشیب یا عمودی
- (۳) تفاوت در مقاومت لایه‌های رسوبی
- (۴) وجود مواد نرم در زیر یا لبه تخته‌سنگ

۲۰۹- چرا در «اول تیرماه» در نقطه قطب شمال، خورشید ۶ ماه در آسمان است و دور افق می‌چرخد؟

- (۱) کوتاه بودن طول مدت روز در نیمکره جنوبی
- (۲) قرار داشتن خورشید در بالای افق، در طول روز
- (۳) مایل بودن محور زمین بر مدار گردش انتقالی آن
- (۴) طولانی بودن روزها در مدار ۶۶° و ۳۳° شمالی

۲۱۰- چرا اکثر مهاجران روستایی پس از ورود به شهر، در «بخش غیررسمی اقتصاد» به فعالیت می‌پردازند؟

- الف) افزایش رشد طبیعی جمعیت شهری
 - ب) محدودیت فرصت‌های شغلی در شهر
 - ج) نداشتن مهارت و تخصص
 - د) رشد بخش غیررسمی اقتصاد
- (۱) الف و ب (۲) الف و د (۳) ج و د (۴) ب و ج

۲۱۱- کدام عبارت، با مفهوم «خط منصف» مطابقت بیشتری دارد؟

- الف) خط مرزی است که از هر دو ساحل به یک اندازه فاصله دارد.
 - ب) مرز سیاسی میان دو کشور است که ممکن است از وسط رود عبور کند.
 - ج) قراردادی است و با تصمیم‌گیری انسان تعیین می‌شود.
 - د) خط مرزی است که نقاط عمیق، در وسط بستر رودخانه را به هم متصل می‌کند.
- (۱) الف و ج (۲) الف و ب (۳) ب و د (۴) ج و د

۲۱۲- کدام عبارت، «وضعیت سیستم» را در حالت «تعادل» بیان می‌کند؟

- (۱) صید ماهی ساکنان دریاچه برای امرار معاش
 - (۲) بررسی مراحل توسعه شهر با توجه به ویژگی‌های محیطی
 - (۳) استفاده از اکوسیستم ساحلی در جهت توسعه دامپروری
 - (۴) بهره‌برداری از اراضی زراعی با استفاده از فناوری‌های جدید
- ۲۱۳- کدام عبارت، فرضیه مناسبی برای پرسش زیر است؟

«چرا روز سوم فروردین ماه سال ۱۳۹۸، در استان گلستان سیل آمد؟»

- (۱) تخریب جنگل‌ها از عوامل وقوع سیل است.
 - (۲) در فصل بهار احتمال وقوع سیل افزایش می‌یابد.
 - (۳) توسعه راه‌های ارتباطی باعث طغیان رودها شده است.
 - (۴) امکان نفوذپذیری خاک در جنگل‌های گلستان، کاهش یافته است.
- ۲۱۴- همه جمله‌ها، مفهوم درستی از «فرایند گردآوری داده‌ها در سنجش از دور» را بیان می‌کنند؛ به جز:
- (۱) ماهواره‌ها به کمک سنجنده‌های خود، داده‌ها را گردآوری می‌کنند.
 - (۲) ماهواره‌ها، هر ۲۴ ساعت یک‌بار از تمام زمین تصویربرداری می‌کنند.
 - (۳) پژوهشگران، داده‌های به‌دست آمده از ماهواره‌ها را پردازش می‌کنند.
 - (۴) بازتاب امواج الکترومغناطیس، پس از عبور از هوا کره، توسط سنجنده دریافت می‌شوند.

۲۱۵- چرا در سامانه اطلاعات جغرافیایی، تعیین «نوع ورودی»، با توجه به «اهداف کاربران» متفاوت است؟

- (۱) به تصمیم‌گیری و روند آن کمک می‌کند.
- (۲) در قالب لایه‌هایی جداگانه، طبقه‌بندی می‌شود.
- (۳) ذخیره و تحلیل اطلاعات به صورت محدود انجام می‌شود.
- (۴) از جمع‌بندی و تلفیق لایه‌های مختلف، لایه جدیدی به وجود می‌آید.

- ۲۱۶- کدام یک روند شکل‌گیری نظام اجتماعی خرد و کلان را به‌درستی نمایان می‌کند؟
- (۱) شکل‌گیری انتظارات و توقعات ← تحقق هنجارها و ارزش‌ها ← تشکیل نقش‌های اجتماعی ← کنش‌های اجتماعی متقابل ← نظام اجتماعی خرد و کلان
 - (۲) تحقق هنجارها و ارزش‌ها ← تعیین انتظارات و توقعات ← ایجاد نقش‌های اجتماعی ← کنش‌های اجتماعی متقابل ← نظام اجتماعی خرد و کلان
 - (۳) ایجاد نقش‌های اجتماعی ← تحقق هنجارها و ارزش‌ها ← تعیین انتظارات و توقعات ← کنش‌های اجتماعی متقابل ← نظام اجتماعی خرد و کلان
 - (۴) نهادهای اجتماعی ← پیدایش هنجارها و ارزش‌ها ← تحقق انتظارات و توقعات ← شکل‌گیری نقش‌های اجتماعی ← نظام اجتماعی خرد و کلان
- ۲۱۷- عبارت درست در رابطه با هدف جامعه‌شناسی، به‌ترتیب، در جامعه‌شناسی انتقادی و پوزیتیویستی و روش جامعه‌شناسی تفهیمی کدام است؟
- (۱) با داوری نسبت به ارزش‌ها و هنجارها، توصیه‌های خود را جهت‌گذار از نظام موجود به سوی نظام مطلوب انجام می‌دهد - پدیده‌های اجتماعی را برای پیش‌بینی و کنترل آن‌ها شناسایی می‌کند - به تأثیر فعال ذهن و عقل در جریان شناخت توجه دارد.
 - (۲) جامعه‌شناسی انتقادی را یک علم ابزاری نمی‌داند تا در خدمت وضع موجود باشد - به فهم پدیده‌های اجتماعی برای پیش‌بینی و کنترل آن‌ها می‌پردازد - پدیده‌های اجتماعی را برای پیش‌بینی و کنترل آن‌ها شناسایی می‌کند.
 - (۳) به فهم پدیده‌های اجتماعی برای پیش‌بینی و کنترل آن‌ها می‌پردازد - نسبت به ارزش‌ها در نظام اجتماعی داوری انتقادی نمی‌کند - با داوری نسبت به ارزش‌ها و هنجارها، توصیه‌های خود را جهت‌گذار از نظام موجود به سوی نظام مطلوب انجام می‌دهد.
 - (۴) پدیده‌های اجتماعی را برای پیش‌بینی و کنترل آن‌ها شناسایی می‌کند - با داوری نسبت به ارزش‌ها و هنجارها، توصیه‌های خود را جهت‌گذار از نظام موجود به سوی نظام مطلوب شناسایی می‌کند. به فهم پدیده‌های اجتماعی برای پیش‌بینی و کنترل آن‌ها می‌پردازد.
- ۲۱۸- به‌ترتیب در مبحث شناخت‌ها، هر یک از عبارات زیر با کدام مطلب ارتباط دارند؟
- با پرسش از آن، شناخت علمی نسبت به جهان اجتماعی آغاز می‌شود.
 - مهم‌ترین بخش از شناخت علمی در جهان توحیدی است.
 - به مسایل و قوانین کلی و عام می‌پردازد.
- (۱) شناخت امور جزئی است - با شناخت عقلی و عمومی مخالفتی ندارد - از طریق تفکر و تأمل حاصل می‌شود.
 - (۲) برای کشف واقعیت و شناخت درست و نادرست بودن امور و پدیده‌ها است - حس را به‌عنوان یکی از ابزارهای شناخت مورد توجه قرار می‌دهد - در جریان زندگی اجتماعی حاصل می‌شود.
 - (۳) با استفاده از اندوخته معرفتی جامعه حاصل می‌شود - ناظر به مسایلی است که برای بشر در زندگی این جهان و فرهنگ و شناخت عمومی وجود دارد - منبع این شناخت، حقایق طبیعی و غیرطبیعی است.
 - (۴) بیشتر برای استفاده عملی و زندگی در جهان اجتماعی است - این شناخت از منبع طبیعت و شناخت عمومی بهره می‌گیرد - با پرسش از شناخت عمومی، شناخت عقلی نسبت به جهان اجتماعی آغاز می‌شود.
- ۲۱۹- به‌ترتیب «ویژگی‌های اخلاقی و روحی»، «آداب و رسوم عروسی» و «خدمت به خانواده» بیان‌کننده چیست؟
- (۱) ویژگی انتسابی - کنش انسانی - ارزش اجتماعی
 - (۲) هویت فردی - فرهنگ - ارزش نهاد اقتصادی
 - (۳) ویژگی نفسانی - نهاد فرهنگی - فرهنگ عمومی
 - (۴) ویژگی اکتسابی - کنش اجتماعی - هنجار اجتماعی
- ۲۲۰- هر یک از موارد زیر مصداق چیست؟
- آواز خواندن در خیابان
 - یک طرفه شدن جاده بین شهری
 - قواعد بازی فوتبال
 - شیوه گذران اوقات فراغت
- (۱) کنش انسانی - پدیده اجتماعی - فرهنگ - کنش نمادین
 - (۲) کنش اجتماعی - فرصت اجتماعی - پدیده اعتباری - فرهنگ
 - (۳) هنجار اجتماعی - کنترل اجتماعی - جامعه‌پذیری - فرصت اجتماعی
 - (۴) پدیده اجتماعی - محدودیت اجتماعی - رفتار نمادین - پدیده اعتباری

۲۲۱- به ترتیب هر یک از موارد زیر با چه مفهوم و موضوعی ارتباط دارند؟

- حکومت فرد بر مبنای فضیلت و حقیقت

- جستجوی واقعیت‌های انسانی و اجتماعی از گذشته دورتر

- مطالعه قوانین مربوط به کنش‌های انسانی

- امنیت ملی

(۱) الیگارش‌ی - تاریخ - علوم اجتماعی - پدیده اجتماعی ذهنی و کلان

(۲) جمهوری - مردم‌شناسی - علوم اجتماعی - پدیده اجتماعی محسوس و کلان

(۳) موناشری - باستان‌شناسی - علوم انسانی - پدیده اجتماعی نامحسوس و کلان

(۴) تیرانی - باستان‌شناسی - فایده علوم اجتماعی - پدیده اجتماعی کلان و عینی

۲۲۲- به ترتیب عامل پدید آمدن هر یک از موارد زیر چیست؟

- پیچیدگی بیشتر قدرت پیش‌بینی علوم اجتماعی نسبت به علوم طبیعی

- محدود شدن قدرت تصرف انسان در طبیعت

- نظریات متفاوت دربارهٔ هویت افراد

(۱) آگاهانه و ارادی بودن کنش‌های انسانی و تنوع آن‌ها - دچار مشکل شدن علوم طبیعی - وجود خطا و اشتباه در شناخت

هویت

(۲) عام‌تر بودن موضوع علوم اجتماعی نسبت به علوم طبیعی - عدم استفاده درست از علوم طبیعی - غفلت و فراموشی

انسان‌ها از هویت حقیقی خود

(۳) فهم معانی کنش‌ها و امکان همدلی و همراهی با کنشگران - قرار نگرفتن علوم طبیعی در مسیر ارزش‌ها و فضیلت‌ها

- پنهان بودن بخش‌هایی از هویت انسان

(۴) وجود ظرفیت دآوری دربارهٔ ارزش‌ها و هنجارها - گسترش علوم طبیعی بدون استفاده از علوم انسانی - غفلت و

فراموشی انسان‌ها از هویت حقیقی خود

۲۲۳- این مفاهیم با چه موضوعاتی ارتباط دارند؟

- شعارهای انسانی و سیاسی مخالف با نظام اشرافی با هویت ضددینی

- امکان انتقاد نسبت به خطاهای رفتاری و اجتماعی

- فرهنگ اسلامی را بزرگ‌ترین تهدید غرب دانستن

(۱) فراماسونری - فایده علوم اجتماعی - نظریهٔ هانتینگتون

(۲) مارکسیسم - جامعه‌شناسی انتقادی - نظریه جنگ تمدن‌ها

(۳) لیبرالیسم - اهمیت علوم اجتماعی - از عوامل وقوع جنگ از نظر کنت

(۴) دولت‌های سکولار غربی - فایده علوم انسانی - از تفکرات بیدارگران اسلامی

۲۲۴- به ترتیب، این موارد ویژگی کدام فرهنگ‌ها و جوامع است؟

- آبادی دنیا هدف مستقلی نیست.

- با تسخیر و تصرف طبیعت، تمامی مسائل و مشکلات تاریخی انسان حل می‌شود.

- فرد بر اساس اندیشه و تصمیم خود با دیگران رفتار می‌کند.

- با استفاده از نیروهای فوق طبیعی، نیازهای مادی و دنیوی خود را تأمین می‌کنند.

(۱) ذهنی - متجدد - مدرن - معنوی (۲) معنوی - تکوینی - ذهنی - ذهنی

(۳) دینی - مدرن - فرهنگی - اساطیری (۴) جهان سوم - دنیوی - اجتماعی - دینی

۲۲۵- این موارد عملکرد و رویکرد چه کسانی و چه گروه‌هایی بود؟

- به خدمت گرفتن حرکت‌های پروتستانی برای حذف قدرت کلیسا

- ایجاد ساختارهای اجتماعی استعماری جدید

- عالم را مثل خواب و پندار دانستن

(۱) قدرت‌های محلی - دولتمردان قاجار - انسان اساطیری

(۲) شاهزادگان اروپایی - روشنفکران چپ - فلاسفه یونان

(۳) دولت‌های استعمارگر - منورالفکران غرب‌زده - فلاسفه روشنگری

(۴) دولت‌های سکولار غربی - حاکمان سکولار در کشورهای مسلمان - سوفسطائیان

۲۲۶- به ترتیب موارد زیر با چه موضوعی ارتباط دارند؟

- توجه به گفتار طرف مقابل هنگام گفت‌وگو

- پرداختن به حالات روانی آدمیان در زندگی روزمره دنیوی

- حفظ فاصله و وابستگی کشورهای غربی و غیرغربی

(۱) پدیده اجتماعی - بحران هویت - تک محصولی شدن

(۲) هنجار اجتماعی - سکولاریسم پنهان - عملکرد لیبرالیسم

(۳) جامعه‌پذیری - فرهنگ اساطیری - وابستگی کشورهای استعمارزده

(۴) کنش اجتماعی - ویژگی ادبیات مدرن - رشد و تحول کشورهای استعمارزده

۲۲۷- درست و غلط بودن عبارتهای زیر را تعیین کنید؟

- جهان‌های گرفتار از خودبیگانگی فرهنگی، از حقیقت خود و هستی دور می‌مانند.

- روشنگری در سده‌های نوزدهم و بیستم، بیشتر رویکردی راسیونالیستی داشت.

- تقابل شرق و غرب، تقابلی جهانی است و در صورتی که فعال شود، بسیاری از چالش‌های درونی کشورهای غربی

دیگر بار فعال خواهند شد.

- هیچ جامعه‌ای، بی‌نیاز از کنش‌ها و رفتارهای نمادین نیست.

(۱) د - غ - غ - د (۲) د - غ - د - غ (۳) د - د - د - غ (۴) غ - غ - د - د

۲۲۸- علت پیدایش هر یک از موارد زیر، چیست؟

- سازمان کنفرانس اسلامی

- فرصت ظهور پادشاهان و قدرت‌های محلی به‌عنوان رقیبان دنیاطلب در دوران رنسانس

- دگرگونی هویت فرهنگی جهان اجتماعی

(۱) مقاومت ملت‌های مسلمان در برابر چالش‌های جهانی‌سازی - انکار دخالت دین در امور دنیوی - مرگ جهان اجتماعی

(۲) مقاومت در برابر سیاست جهانی‌سازی اقتصادی قدرت‌های برتر اروپایی و آمریکایی - فروپاشی اقتدار کلیسا - بحران هویت

(۳) پیمان منطقه‌ای کشورهای مسلمان در برابر قدرت‌های برتر - رویکرد دنیوی به عالم - از خودبیگانگی فرهنگی

(۴) کاهش اهمیت مرزهای سیاسی - فروپاشی اقتدار کلیسا - تعارض فرهنگی

۲۲۹- این موارد، چگونه و از چه طریق محقق می‌شوند؟

- از بین رفتن آزادی افراد

- پایان مبارزات عقیدتی سیاسی بشر از نظر فوکویاما

- مخالفت با ارزش‌های دموکراتیک جهان غرب

(۱) گسترش سرمایه‌داری - جنگ تمدن‌ها - شکل‌گیری علوم انسانی بر بنیان‌های معرفت‌شناختی پسامدرن

(۲) امپریالیسم سیاسی - پایان هراس جامعه جهانی نسبت به بلوک شرق - متزلزل شدن هویت فرهنگی جوامع غربی

(۳) نظام‌های سلطه‌گر - شکل‌گیری قطب‌بندی جدید فرهنگی و تمدنی - بازنگری و ارزیابی هویت فرهنگ‌های دینی بر

پایه بنیان‌های معرفت دینی

(۴) تحقق جوامع سوسیالیستی و مارکسیستی - فروپاشی بلوک شرق و غلبه نظام لیبرال دمکراسی - تجمع قدرت رسانه

در دست صاحبان ثروت و کانون‌های صهیونیستی

۲۳۰- به ترتیب هر یک از مصداق‌های زیر، مربوط به کدام فرهنگ و دوره تاریخی است؟

- پیدایش فلسفه دکارت

- فتح قسطنطنیه

- رونق معنویت‌های کاذب و دروغین

- حکومت آتاتورک در ترکیه

(۱) سکولار - استکباری - قرون وسطی - مدرن

(۲) رنسانس - رنسانس - اساطیری - غرب

(۳) غرب جدید - قرون وسطی - پسامدرن - سکولار

(۴) پسامدرن - سلطه - غیرتوحیدی - متجدد

۲۳۱- پاسخ دهید:

- هنگامی که یک فرهنگ در سطح جهانی غالب بوده و ویژگی‌های مطلوب یک فرهنگ جهانی را داشته باشد، چه نتیجه‌ای در پی دارد؟

- نابودی پانزده میلیون سرخ‌پوست نتیجه چه بود؟

- مسلمانان آسیای جنوب شرقی از چه طریق به اسلام روی آوردند؟

(۱) برخورد های فرهنگی و تمدنی - نسل‌کشی و از بین بردن ساکنان بومی - تعاملات فرهنگی

(۲) انسجام جامعه جهانی - اقدام اروپائیان برای تأمین سلطه خود بر آمریکا - روابط تجاری

(۳) وابستگی جوامع - اشغال سرزمین‌های آنها توسط سفیدپوستان - روابط تجاری

(۴) ایجاد زمینه ستیز و چالش - بزرگترین برده‌داری تاریخ - روابط سیاسی

۲۳۲- به ترتیب کشورهای عثمانی، ژاپن و چین در دوره استعمار چه وضعیتی پیدا کردند؟

(۱) با تهدید کشورهای اروپایی مجبور به برقراری روابط تجاری، تحت شرایط موردنظر آنها شد - از طریق تهدید نظامی، در قرن هفدهم دروازه‌های خود را به روی کشورهای غربی گشود - در اثر نفوذ گروه‌های مبلغ مسیحی و فراماسونری، تهدید نظامی و روابط اقتصادی از هم پاشید.

(۲) از طریق تهدید نظامی، نفوذ گروه‌های مبلغ مسیحی و روابط اقتصادی، تحت سیطره روسیه درآمد - با تهدید کشورهای اروپایی مجبور به برقراری روابط تجاری، تحت شرایط موردنظر آنها شد - در اثر نفوذ گروه‌های مبلغ مسیحی و فراماسونری، تهدید نظامی و روابط اقتصادی از هم پاشید.

(۳) در اثر نفوذ گروه‌های مبلغ مسیحی و فراماسونری، تهدید نظامی و روابط اقتصادی از هم پاشید - از طریق تهدید نظامی، نفوذ گروه‌های مبلغ مسیحی و روابط اقتصادی به صورت کشوری ضعیف درآمد - با تهدید کشورهای اروپایی و بدون حضور مبلغان مسیحی به صورت کشوری ضعیف درآمد.

(۴) در اثر نفوذ گروه‌های مبلغ مسیحی و فراماسونری، تهدید نظامی و روابط اقتصادی از هم پاشید - با تهدید کشورهای اروپایی مجبور به برقراری روابط تجاری، تحت شرایط موردنظر آنها شد - از طریق تهدید نظامی، نفوذ گروه‌های مبلغ مسیحی و روابط اقتصادی به صورت کشوری ضعیف درآمد.

۲۳۳- به ترتیب، هر یک از موارد زیر، نتیجه کدام بحران و چالش است؟

- تأمین رفاه کارگران و اقشار ضعیف جوامع غربی

- به سخره گرفتن فیلسوفان مدافع نوانتخاباتها توسط دیکنز

- جنبش وال استریت

(۱) فقر و غنا - سیاسی - معرفتی

(۲) شمال و جنوب - معرفتی - سیاسی

(۳) استعمارگر و استعمارزده - اقتصادی - هویتی

(۴) مرکز پیرامون - فقر و غنا - اقتصادی

۲۳۴- روندی که منجر به جنبش عدالتخانه شد، کدام است؟

(۱) تعامل عالمان شیعی براساس فعالیت رقابت‌آمیز، حاکمیت پادشاه را غیرمشروع دانسته و برخوردی اصلاحی با قاجار داشتند و فعالیت رقابت‌آمیز را از اصلاح رفتار به اصلاح ساختار تغییر داده و به شکل‌گیری جنبش عدالتخانه منجر شد.

(۲) اثرپذیری قاجار از دولت‌های استعماری، مقاومت منفی را به سوی فعالیت رقابت‌آمیز تغییر داد و برخورد عالمان دینی در جهت تأیید قدرت حاکم، به اصلاح رفتار حاکمان تغییر کرد و زمینه را برای جنبش عدالتخانه مهیا نمود.

(۳) روی آوردن قاجار به قراردادهای استعماری، موجب تغییر مقاومت منفی به فعالیت رقابت‌آمیز شد و تجربه موفق جنبش تنباکو این فعالیت را از اصلاح رفتار به اصلاح ساختار تغییر داد و جنبش عدالتخانه شکل گرفت.

(۴) عالمان دینی براساس مقاومت منفی با قاجار تعامل داشته و در حدّ واجبات نظامیه با آنها همکاری سیاسی داشتند و تلاش کردند فعالیت را از اصلاح ساختار به اصلاح رفتار تغییر داده و به شکل‌گیری جنبش عدالتخانه کمک کردند.

۲۳۵- آرمان انقلاب اسلامی چه بود؟

(۱) دفاع از محرومان و مستضعفان جهان را وظیفه خود می‌دانست - فطرت الهی همه انسان‌ها را مخاطب خود قرار می‌داد - حل مشکلات معرفتی و معنوی بشر را در محدوده رسالت خود می‌دید.

(۲) درهم ریختن موقعیت متزلزل دو قطب سیاسی قرن بیستم و قطب‌بندی جدید را در نظر داشت - دفاع از محرومان جهان را وظیفه خود می‌دانست - نوع بشر را مخاطب قرار می‌داد.

(۳) حل مشکلات سیاسی و اقتصادی را در محدوده رسالت خود می‌دید - جوامع پیرامونی و مستضعف را مخاطب خود قرار می‌داد - دفاع از محرومان جهان را وظیفه خود می‌دانست.

(۴) دفاع از مستضعفان جهان را وظیفه خود می‌دانست - رسالت خود را به حل چالش‌های جامعه ایران محدود می‌کرد - از عزت و اقتدار جهان اسلام پاسداری می‌کرد.

۲۳۶- کدام عبارت درست است؟

- (۱) موضوع دانش منطق براساس نوع آگاهی‌های ذهن، به حیطه‌های مختلف تقسیم می‌شود.
- (۲) آموزش و ممارست در فن منطق، باعث پرورش قوهٔ خلاقیت و توسعه دانش انسان می‌شود.
- (۳) منطق مانند سیستم‌های کنترلی خودرو است که آسیب‌های موتور را نشان داده و باعث حرکت آن می‌شود.
- (۴) در تصویری مانند درخت که امری واقعی است، «وجود داشتن» یک ویژگی است که در ضمن تصور موجود است.

۲۳۷- کدام تعریف، جامع و مانع نیست؟

- (۱) حیوان: موجود جاندار دارای حواس
 - (۲) پرنده: موجودی که در آسمان پرواز می‌کند.
 - (۳) اسب: حیوان چهارپا که علفخوار است.
 - (۴) فعل: کلمه‌ای که انجام کاری یا وقوع حالتی را می‌رساند.
- ۲۳۸- اگر قضایای «بعضی الف‌ها ب هستند» و «بعضی الف‌ها ب نیستند» درست باشند، دربارهٔ رابطهٔ «الف و ب» کدام عبارت، درست است؟

- (۱) لزوماً عموم و خصوص من وجه است.
- (۲) تساوی یا عموم و خصوص مطلق است.
- (۳) تساوی یا عموم و خصوص من وجه است.
- (۴) عموم و خصوص مطلق یا عموم و خصوص من وجه است.

۲۳۹- کدام قضیه شخصیه است؟

- (۱) زاغکی قالب پنیری دید.
- (۲) زاغ گور کنندن را به قابیل آموخت.
- (۳) زاغ برعکس غاز می‌شود.
- (۴) زاغ می‌خواست راه رفتن کبک را بیاموزد.

۲۴۰- از قضیهٔ «این موجود یا انسان است یا غیر حیوان»، درستی کدام قضیه را می‌توان فهمید؟

- (۱) هیچ غیرانسانی حیوان نیست.
 - (۲) بعضی انسان‌ها غیرحیوان هستند.
 - (۳) بعضی غیرحیوان‌ها انسان هستند.
 - (۴) بعضی انسان‌ها غیرحیوان نیستند.
- ۲۴۱- اگر از قضیهٔ «برخی از ثروتمندان متکبر نیستند»، نتیجه بگیریم که «برخی از متکبران ثروتمند نیستند»، کدام عبارت درست است؟

- (۱) نوعی مصادره به مطلوب است.
- (۲) دچار قیاس نامعتبر شده‌ایم.
- (۳) دچار ابهام انعکاس شده‌ایم.
- (۴) با توجه به واقعیت، استدلالی معتبر انجام داده‌ایم.

۲۴۲- کدام استدلال تمثیلی است؟

- (۱) انسان باید زیاد سیر و سیاحت کند؛ زیرا آب اگر در یک جا بماند، می‌گندد.
- (۲) انسان که زیاد سفر کند تجربه‌اش بیشتر می‌شود؛ پس باید به سیر و سیاحت بپردازم.
- (۳) انسان مانند همهٔ موجودات زنده به غذا نیاز دارد و باید تغذیهٔ مناسب و کافی داشته باشد.
- (۴) من انسان هستم و هر انسانی به هوای سالم نیاز دارد؛ من هم مانند دیگران به هوای سالم نیازمندم.

۲۴۳- کدام یک از قیاس‌های زیر معتبر است؟

- (۱) هر ج د است. هر ج ب است. ← بعضی د ب است.
- (۲) بعضی الف ب نیست. هر الف ج است. ← بعضی ب ج نیست.
- (۳) هیچ ج د نیست. بعضی د الف است. ← بعضی ج الف است.
- (۴) هیچ الف ب نیست. بعضی ج ب است. ← بعضی الف ج نیست.

۲۴۴- با توجه به مقدمات داده شده، نتیجهٔ کدام قیاس استثنایی انفصالی، یقینی است؟

- (۱) اگر قضیهٔ «الف یا ب» منفصلهٔ مانعة الجمع باشد:

الف یا ب
غیرب
غیرالف
- (۲) اگر قضیهٔ «الف یا ب» منفصلهٔ مانعة الجمع باشد:

الف یا ب
غیرالف
ب
- (۳) اگر قضیهٔ «الف یا ب» منفصلهٔ حقیقی باشد:

الف یا ب
الف
غیرب
- (۴) اگر قضیهٔ «الف یا ب» منفصلهٔ مانعة الرفع باشد:

الف یا ب
الف
غیرب

۲۴۵- کدام مورد تفاوت اساسی فلسفه را با سایر علوم نشان می‌دهد؟

- (۱) ارائه دیدگاه‌های کلی
- (۲) موضوع و مسائل آن
- (۳) حیرت در برابر هستی
- (۴) استفاده از روش عقلی

۲۴۶- کدام عبارت درست است؟

- (۱) رشته‌های مختلف دانش، رابط فلسفهٔ اولی با شاخه‌های گوناگون فلسفه هستند.
- (۲) در حیطهٔ فلسفهٔ سیاست، یک فیلسوف در عین حال باید سیاستمدار هم باشد.
- (۳) فلسفهٔ اولی بخش اصلی فلسفه است که ریشه و شاخه‌های فلسفه را در برمی‌گیرد.
- (۴) مکتب‌های گوناگون علوم انسانی، در آثار بسیاری از فیلسوفان قدیمی ریشه دارد.

۲۴۷- کدام عبارت درست است؟

- (۱) نخستین تأملات بشر در مورد هستی، از یونان باستان به یادگار مانده است.
- (۲) آموزش‌های سوفسطائیان باعث گسترش فنون استدلال و شکل‌گیری دانش منطق شد.
- (۳) مشرق زمین سرچشمهٔ اندیشه‌های فلسفی بشر و نخستین زادگاه فلسفه بوده است.
- (۴) اگر هر ادعایی قابل اثبات باشد، هیچ تفاوتی میان حقیقت و خطا وجود نخواهد داشت.

۲۴۸- سقراط هنگام دفاع از خود در برابر اتهامات ملتوس، برای بیان حقیقت، کدام ویژگی را سزاوارتر می‌دانست؟

- (۱) درستی عقیده
- (۲) زیبایی کلام
- (۳) سادگی سخن
- (۴) مستدل بودن گفته‌ها

۲۴۹- دربارهٔ درستی کدام عبارت، افلاطون و تئیتوس هم عقیده بودند؟

- (۱) هیچ انسانی نمی‌تواند عاقل‌تر از انسان دیگری باشد.
- (۲) آنچه حواس هرکسی گواهی می‌دهد، برای او عین حقیقت است.
- (۳) ادراک حسی نسبی است و از شخصی به شخص دیگر فرق می‌کند.
- (۴) ادراک حسی حقیقت هر چیز را درمی‌یابد و احتمال خطا در آن نمی‌رود.

۲۵۰- مناسب‌ترین توضیح برای این عبارت که «آن چه شدنی است ماده است و آن چه بودنی است، صورت» کدام است؟

- (۱) ماده و صورت را هرگز نمی‌توان از یکدیگر جدا کرد؛ زیرا اموری نسبی هستند، یعنی در نسبت به یکدیگر معنا دارند.
- (۲) ماده، مایهٔ اولیه است که با دخالت عامل خارجی به فعلیت می‌رسد و صورت، فعلیتی است که ماده به آن تبدیل می‌شود.
- (۳) ماده در حقیقت، مرحلهٔ استعداد یک چیز است که برخلاف صورت، در طول تغییرات طبیعی، هیچ تغییری نمی‌کند.
- (۴) طی تغییرات طبیعی یک موجود، صورت‌ها یکی پس از دیگری عوض می‌شوند و در آن واحد، ماده به مرحلهٔ بعد رانده می‌شود.

۲۵۱- مهم‌ترین استدلال کسانی که در طرفداری از دین، فلسفه را بیهوده دانسته‌اند، کدام است؟

- (۱) تعبد و دینداری با فلسفه و فلسفه‌ورزی سر سازش ندارد.
- (۲) طرح مسائل فلسفی باعث گمراهی مردم و ایجاد بدعت‌ها در دین می‌شود.
- (۳) دین، تکلیف مسائلی را که فلسفه می‌خواهد به آن بپردازد، از پیش مشخص کرده است.
- (۴) احکام دینی، به نحو روشنی در مقابل زیاده‌روی‌های عقل استدلالی موضع گرفته است.

۲۵۲- کدام عبارت دربارهٔ فلسفهٔ اسلامی نادرست است؟

- (۱) سبب گسترش نظام‌های فلسفی گذشته شد.
- (۲) پیشگامان اولیه نهضت رنسانس نیز از آن متأثر بودند.
- (۳) در پایان بخشیدن به سیطرهٔ فکری اگوستین مؤثر بود.
- (۴) فقط آن بخش فلسفه یونان که متأثر از ارسطو بود، در آن نقش داشت.

۲۵۳- کدام تمثیل برای بیان برهان فارابی، مبنی بر اثبات وجود خداوند، مناسب‌تر است؟

- (۱) مدیر یک شرکت، پرداخت وام را در صورت تأمین اعتبار و تأمین اعتبار را به شرط تصویب مجلس ممکن می‌داند.
- (۲) کسی که می‌خواهد روی کاغذ مطالبی بنویسد، علاوه بر قلم، کاغذ، مرکب و سایر عوامل، به اراده نیز نیازمند است.
- (۳) در دو کفه ترازو که در حالت استوا قرار دارد، سنگینی یک کفه نسبت به دیگری، نیازمند عاملی بیرونی است.
- (۴) فردی که دو لیوان یکسان آب در مقابلش قرار دارد، برای ترجیح یکی از دو لیوان بر دیگری، نیازمند علت است.

۲۵۴- کدام عبارت درست است؟

- (۱) اساس تبدیل یک آزمایش علمی به یک قانون، گرفتن نتایج مشابه در موارد مکرر است.
- (۲) هرگاه نتیجه یک آزمایش با لفظ «هر» یا «هیچ» بیان شود، تبدیل به یک قانون علمی می‌گردد.
- (۳) هرگاه آزمایش‌های گذشته فرضیه‌ای را تأیید کنند، نتایج آزمایش‌های آینده نیز در تأیید آن خواهد بود.
- (۴) کلیت یک قانون علمی به این معنا است که هم موارد تجربه شده و هم موارد تجربه نشده را دربرمی‌گیرد.

۲۵۵- از نظر فارابی، کدام ویژگی رئیس مدینه، امکان تشخیص سعادت حقیقی آدمی را برای او فراهم می‌آورد؟

- (۱) اتصال پیوسته با عالم عقول
- (۲) برتری عقلی نسبت به سایر افراد مدینه
- (۳) داشتن روحی بزرگ و سرشتی عالی
- (۴) ریاست بر مدینه و تشخیص شایستگی‌های افراد

۲۵۶- کدام عبارت، درباره طبیعت‌شناسی ابن سینا درست است؟

- (۱) روند تحولات و نظام‌مندی آن‌ها در جهان طبیعت، ناشی از یک عامل درونی است.
- (۲) طبیعت دارای مراتبی است که هر مرتبه آن، با یکی از مراتب نفس انسان هماهنگ است.
- (۳) تأمل در روابط میان پدیده‌های طبیعی، هر دانشمندی را به خشوع در برابر حق وای می‌دارد.
- (۴) با توجه به احسن بودن نظام عالم، هر جزئی از طبیعت، نشان‌دهنده جریان کلی حاکم بر آن است.

۲۵۷- کدام عبارت، با نظرات سهروردی درباره نفس انسان سازگار است؟

- (۱) مرتبه ثابتی میان مغرب کامل و مشرق کامل دارد.
- (۲) به علم حضوری و بدون هیچ واسطه‌ای، خود را می‌شناسد.
- (۳) فقط با تزکیه نفس و کسب معلومات، به علم حضوری می‌رسد.
- (۴) مادامی که در حیات دنیوی به سر می‌برد، به مرتبه عالم ماده تعلق دارد.

۲۵۸- مناسب‌ترین عبارت در توصیف روش اشراقی در کسب حقیقت، کدام است؟

- (۱) آنچه از طریق استدلال به دست آمده، از طریق شهود تعمیم می‌یابد.
- (۲) آنچه از طریق شهود دریافت شده، به کمک عقل و استدلال تبیین می‌شود.
- (۳) ابتدا نفس از طریق سیروسلوک قلبی، تصفیه شده و سپس عقل تقویت می‌گردد.
- (۴) با تقویت عقل و غلبه بر شهوات، هم تزکیه نفس و هم تفکر فلسفی محقق می‌شود.

۲۵۹- کدام عبارت بیانگر نظر ملاصدرا است؟

- (۱) آنچه واقعیت خارجی را تشکیل می‌دهد و در خارج اصالت دارد، مفهوم وجود است.
- (۲) واقعیت خارجی امری واحد است و هر ماهیت تعینات خاصی دارد که مفهوم وجود را شکل می‌دهد.
- (۳) گوناگونی و کثرت، مربوط به ویژگی‌های موجودات است و این ویژگی‌ها نیز به خود وجود باز می‌گردد.
- (۴) وجود حقیقتی مشکک است، یعنی: مفهوم وجود در موجودات، مشترک و واقعیت آن، متفاوت است.

۲۶۰- کدام عبارت درست است؟

- (۱) انسان تعاقب دو حادثه را از طریق تجربه دریافت می‌کند.
- (۲) وجود علیت میان دو حادثه، دلیل بر تأثیر و تأثر میان آن‌ها نیست.
- (۳) درک قاعده کلی علیت، همان علم حضوری نفس به خود و حالات خود است.
- (۴) علیت قانونی است که انسان، در اثر مشاهدات بسیار حوادث پی‌درپی آن را فهمیده است.

۲۶۱- تلاش روان شناسان بر کدام مورد، متمرکز است؟

- (۱) توصیف و تبیین علمی رفتار انسان
 (۲) شکل‌دهی فرضیه برای بررسی داده‌ها
 (۳) مشاهده طبیعی رفتار و تجربه منحصربه‌فرد انسان
 (۴) گردآوری و جمع‌آوری اطلاعات در مورد رفتار انسان

۲۶۲- دانشمندان از طریق تعریف عملیاتی، کدام فعالیت علمی را انجام می‌دهند؟

- (۱) پدیده‌های طبیعی را پیش‌بینی می‌کنند.
 (۲) نحوه اندازه‌گیری متغیرها را مشخص می‌کنند.
 (۳) ارتباط بین دو یا چند متغیر را روشن می‌کنند.
 (۴) فرضیه‌ای که به‌طور تجربی قابل بررسی است را ارائه می‌کنند.

۲۶۳- یافته‌های یک تحقیق علمی نشان داد که تماشای فیلم‌های خشونت‌آمیز موجب افزایش پرخاشگری کودکان می‌شود،

در چند تحقیق دیگر که در موقعیت‌های مشابه انجام شد نیز همین یافته به‌دست آمد. این یافته‌های تحقیقاتی کدام

ویژگی روش علمی را نشان می‌دهد؟

- (۱) کنترل (۲) مشاهده (۳) تکرارپذیری (۴) تعریف عملیاتی

۲۶۴- به ترتیب، در کدام رویکردهای روان‌شناسی بر نقش «تجربه و تعامل با محیط» و «غرایز ذاتی و تجارب اولیه کودکی»

در تبیین و توضیح رفتار انسان تأکید می‌شود؟

- (۱) انسان‌گرا - زیستی (۲) رفتاری - روان‌کاوی (۳) شناختی - انسان‌گرا (۴) روان‌کاوی - شناختی

۲۶۵- تفکر منطقی در کدام دوره رشد پابه‌ریزی می‌شود؟

- (۱) عملیات عینی (۲) عملیات ذهنی (۳) پیش عملیاتی (۴) حسی - حرکتی

۲۶۶- بارداری مادران در چند سالگی با احتمال مرگ جنین پایین‌تری همراه است؟

- (۱) ۱۵-۲۰ (۲) ۲۰-۲۵ (۳) ۲۵-۳۰ (۴) ۳۰-۳۵

۲۶۷- این واقعیت که هر نسلی به شیوه خودش رشد می‌کند و دنیا را برای نسل بعدی تغییر می‌دهد، کدام ویژگی رشد را

نشان می‌دهد؟

- (۱) تداوم و پیوستگی رشد
 (۲) انعطاف‌پذیری در فرایند
 (۳) تأثیرپذیری از شرایط تاریخی - فرهنگی
 (۴) کل‌گرا بودن و داشتن جنبه‌های مختلف

۲۶۸- کدام مورد، براساس مطالعات کلبرگ درباره دوره قراردادی رشد اخلاقی، درست است؟

- (۱) مبنای رفتار اخلاقی قوانین اجتماعی است.
 (۲) بالاترین دوره رشد استدلال اخلاقی است.
 (۳) اصول اخلاقی الزاماً با استانداردهای همگانی همخوانی ندارد.
 (۴) نوجوانان با سن بالاتر از ۱۷ سال در این دوره از رشد اخلاقی قرار دارند.

۲۶۹- تغییرات نسبتاً پایدار در رفتار و احساس که در نتیجه تجربه رفتاری و شناختی به‌وجود می‌آید، چه نام دارد؟

- (۱) ریش (۲) رشد (۳) هوش (۴) یادگیری

۲۷۰- کدام عبارت، در مورد اطلاعات شنیداری و ادراک شنوایی درست است؟

- (۱) اطلاعات از طریق گیرنده‌های حسی گوش، تفسیر و پردازش می‌شوند.
 (۲) در مغز اطلاعات با همان ویژگی‌های فیزیکی صدا بازنمایی می‌شود.
 (۳) اطلاعات حسی به حالت شیمیایی تبدیل و به مغز منتقل می‌شود.
 (۴) در ناحیه لوب آهیانه‌ای اطلاعات کدگذاری می‌شوند.

۲۷۱- براساس مطالعات درباره ساختارهای مغزی حافظه، اگر هیپوکامپوس برداشته شود، چه اتفاقی در حافظه می افتد؟

- (۱) هر دو حافظه جدید و قدیم از بین می روند.
- (۲) حافظه جدید جایگزین حافظه قدیمی می شود.
- (۳) حافظه قدیمی از بین می رود اما حافظه جدید تشکیل می شود.
- (۴) حافظه قدیمی باقی می ماند اما حافظه جدید تشکیل نمی شود.

۲۷۲- کدام عبارت، درخصوص حافظه درست است؟

- (۱) ظرفیت حافظه کوتاهمدت در به یادسپاری ارقام و حروف نامحدود است.
 - (۲) با تمرین و تکرار، اطلاعات از حافظه کوتاهمدت به حافظه بلندمدت منتقل می شود.
 - (۳) شباهت زیاد بین مرحله نگهداری و بازیابی، عملکرد حافظه فعال را افزایش می دهد.
 - (۴) در مرحله رمزگردانی، اطلاعات ثبت و یادگیری شده در حافظه بلندمدت نگهداری می شوند.
- ۲۷۳- در علم روان شناسی، شناخت محرک معینی، تحت تأثیر ارائه پیشین همان محرک را، چه می نامند؟

- (۱) آماده سازی (۲) یادگیری (۳) مشابهت (۴) حافظه

۲۷۴- فردی که نمی تواند حروف نوشتاری را به آوا یا صدا تبدیل کند، دچار کدام نوع مشکل است؟

- (۱) خطای شکلی (۲) خطای تبدیلی (۳) نارساخوانی (۴) پدیده نوک زبانی

۲۷۵- بیشترین و کمترین میزان هشیاری به ترتیب، در کدام نوع حافظه وجود دارد؟

- (۱) معنایی - رویه ای (۲) رویه ای - معنایی
- (۳) رویه ای - آماده سازی (۴) حوادث خاص - آماده سازی

۲۷۶- کدام عبارت، نشان دهنده تعارض اجتناب - اجتناب است؟

- (۱) فردی دوست دارد به پارک برود اما از مبتلا شدن به کرونا می ترسد.
 - (۲) نوجوانی علاقمند به یادگیری موتورسواری است اما نگران آسیب دیدن است.
 - (۳) ورزشکاری که باید دارای وزن متناسب باشد، اما غذاهای چرب و پرکالری دوست دارد.
 - (۴) دانش آموزی باید یکسری از تکالیف زیاد و دشوار را انجام دهد یا با تنبیه معلم روبه رو شود.
- ۲۷۷- نیاز برای دوباره سازگار شدن با شرایط جدید زندگی، نشانگر کدام مفهوم روان شناختی است؟

- (۱) انگیزه (۲) اراده (۳) مقابله (۴) فشار روانی

۲۷۸- کدام عبارت، صحیح است؟

- (۱) فشار روانی در واقع، ترس و بیمی کلی، مبهم و ناخوشایند است.
- (۲) فرد وسواسی نمی داند که افکار و اعمال وسواسی، غیرمنطقی هستند.
- (۳) پاسخ جنگ یا گریز در بلندمدت می تواند باعث رفتارهای ناسازگارانه شود.
- (۴) افراد با ویژگی شخصیتی سخت رویی در مواجهه با مشکلات زندگی احساس ناتوانی می کنند.

۲۷۹- فردی که همیشه از سوار شدن در هواپیما به طور نامعقول ترس شدیدی دارد به کدام اختلال مبتلا است؟

- (۱) فوبیا (۲) اضطراب فراگیر (۳) فشار پس سانحه ای (۴) وسواس فکری - عملی

۲۸۰- در کدام روش روان درمانی، برای درمان مشکلات روانی از تقویت و تنبیه استفاده می شود؟

- (۱) بینشی (۲) رفتاری (۳) شناختی (۴) مراجع محوری