

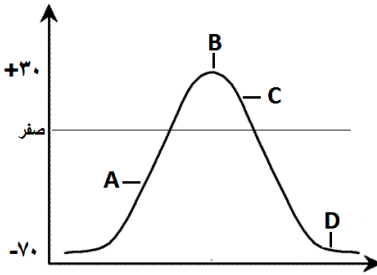

باسمه تعالی

تعداد صفحات: ۴	مدت امتحان: ۹۰ دقیقه	رشته: تجربی	سوالات امتحان شبه نهایی درس: زیست شناسی ۲
نام و نام خانوادگی:	تاریخ امتحان: ۱۴۰۳/۱/۲۷	ساعت شروع: صبح ۷:۳۰	پایه یازدهم دوره دوم متوسطه نظری
مرکز ارزشیابی و تضمین کیفیت نظام آموزش و پرورش http://aee.medu.gov.ir		دانش آموزان دبیرستان‌های دوره دوم متوسطه روزانه سراسر کشور در طرح سه نما سال ۱۴۰۳	
ردیف	سوالات (پاسخ‌نامه دارد)		نمره

۲	<p>درستی یا نادرستی جملات زیر را بدون ذکر دلیل مشخص کنید.</p> <p>الف) دستگاه عصبی پلاناریا همانند ملخ و برخلاف هیدر، دارای تقسیم بندی مرکزی و محیطی می‌باشد.</p> <p>ب) با تغییر شکل پوشش اطراف گیرنده فشار، در انتهای دارینه نوروں حسی، پتانسیل عمل نقطه به نقطه ایجاد می‌شود.</p> <p>ج) در انسان ماهیچه توام بر خلاف ماهیچه دوزنقه‌ای کاملاً در سطح پشتی بدن قرار دارد.</p> <p>د) مقدار ترشح هورمون مترشحه از اپی‌فیز در طول روز به حداکثر می‌رسد.</p> <p>ه) همه گلبول‌های سفید توانایی انجام عمل نشان داده شده در شکل روبه رو را دارند.</p> <p>و) دو جفت فام تن (کروموزوم) همتا و دو کروماتیدی که از طول، مجاور و متصل هستند چهارتایه (تتراد) نامیده می‌شوند.</p> <p>ز) اسپرم‌ها برخلاف ترشحات غده پیازی میزاهی از داخل پروستات عبور می‌کنند.</p> <p>ح) در روش خوابانیدن بخشی از ساقه یا شاخه را که دارای گره است، با خاک می‌پوشانند.</p>	۱
۲	<p>هر یک از عبارتهای زیر را با کلمات مناسب کامل کنید.</p> <p>الف) جریان الکتریکی ثبت شده از باخته‌های مغز را گویند، که توسط آن می‌توان فعالیت مغز را بررسی کرد.</p> <p>ب) اولین همایه (سیناپس) بین گیرنده‌های بویایی و یاخته‌های عصبی در انجام می‌گیرد.</p> <p>ج) نوع اسکلت در جانداري که از فرومون برای اخطار حضور شکارچی استفاده می‌کند است.</p> <p>د) هورمون مترشحه از تیروئید، باعث افزایش تراکم استخوانی می‌شود.</p> <p>ه) در لایه درونی پوست، بافت پیوندی رشته‌ای وجود دارد و که از پوست جانوران درست می‌شود مربوط به این لایه است.</p> <p>و) در کوتاه‌ترین مرحله اینترفاز ساخت پروتئین‌ها و عوامل مورد نیاز برای تقسیم یاخته پیدا می‌کنند.</p> <p>ز) هورمون LH موجب تشکیل و ترشح هورمون استروژن و پروژسترون از نیمه دوره به بعد می‌شود.</p> <p>ح) نوعی ساقه زیرزمینی که به علت ذخیره ماده غذایی در آن متورم شده است، نام دارد.</p>	۲
۱/۷۵	<p>برای کامل کردن هر یک از عبارتهای زیر، از بین کلمات داخل پرانتز، کلمه مناسب را انتخاب کنید.</p> <p>الف) در ساختار دستگاه عصبی انسان (مخچه / تالاموس) از بخش‌های اصلی مغز محسوب نمی‌شود.</p> <p>ب) در جوانه‌های چشایی تعداد یاخته‌های پشتیبان (کمتر / بیشتر) از گیرنده‌های چشایی است.</p> <p>ج) استخوان‌های ستون مهره از نوع استخوان‌های (کوتاه / نامنظم) هستند.</p> <p>د) یک غده (درون ریز / برون ریز) ترشحات خود را از طریق مجرا به سطح یا حفرات بدن می‌ریزد.</p> <p>ه) به عدم پاسخ دستگاه ایمنی در برابر عامل‌های خارجی (تحمل ایمنی / خودایمنی) می‌گویند.</p> <p>و) آفتاب سوختگی (همانند / برخلاف) حذف پرده‌های بین انگشتان پا در دوران جنینی برخی پرندگان، مثالی برای مرگ برنامه‌ریزی شده می‌باشد.</p> <p>ز) در ابتدای دوره جنسی در چرخه تخمدانی، مقدار کم هورمون‌های استروژن و پروژسترون، به (هیپوتالاموس / هیپوفیز) فرمان می‌دهد که هورمون آزادکننده‌ای ترشح کند.</p>	۳
«ادامه سوالات در صفحه دوم»		

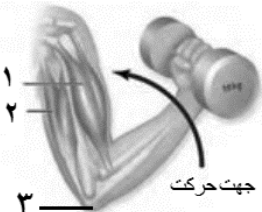
باسمه تعالی

تعداد صفحه: ۴	مدت امتحان: ۹۰ دقیقه	رشته: تجربی	سوالات امتحان شبه نهایی درس: زیست شناسی ۲
نام و نام خانوادگی:	تاریخ امتحان: ۱۴۰۳/۱/۲۷	ساعت شروع: صبح ۷:۳۰	پایه یازدهم دوره دوم متوسطه نظری
مرکز ارزشیابی و تضمین کیفیت نظام آموزش و پرورش http://aee.medu.gov.ir		دانش آموزان دبیرستان‌های دوره دوم متوسطه روزانه سراسر کشور در طرح سه نما سال ۱۴۰۳	
نمره	سوالات (پاسخ‌نامه دارد)		ردیف

۱	 <p>در ارتباط با ایجاد پیام عصبی به سوالات زیر پاسخ دهید. الف) علت بالا رفتن منحنی در نقطه A چیست؟ ب) در نقطه C اختلاف پتانسیل در دو سوی یاخته عصبی کاهش می‌یابد یا افزایش؟ ج) در کدام بخش، میزان فعالیت پروتئین غشایی مصرف کننده ATP (نسبت به بقیه نواحی) بیشتر مشهود است؟</p>	۴												
۰/۵	چرا پس از انتقال پیام عصبی، مولکولهای ناقل باقیمانده باید از فضای سیناپسی تخلیه شوند؟ (دومورد)	۵												
۰/۲۵	با توجه به فعالیت تشریح مغز جایگاه و محل قرارگیری هر یک از بخش های زیر را بنویسید. الف) اپی فیز ب) اجسام مخطط ج) بقایای پرده مننژ	۶												
۱/۲۵	 <p>در رابطه با ساختار چشم، به سوالات زیر پاسخ دهید. الف) بخشی که به شکل حلقه‌ای اطراف محل استقرار عدسی است، چه نام دارد؟ ب) در زمان تشریح چشم گاو اگر زلالیه شفاف نباشد، چه دلیلی می‌تواند داشته باشد؟ ج) فقط با ذکر شماره بگوئید نقص در عملکرد کدام یک از یاخته های نوری مقابل موجب عدم تشخیص رنگها می‌شود. د) فاصله عصب بینایی تا قرنیه برای تشخیص کدام ویژگی چشم گاو کاربرد دارد؟</p>	۷												
۰/۵	با توجه به حواس جانوران، به سوالات زیر پاسخ کوتاه دهید: الف) موهای حسی روی پاهای مگس دارای چه نوع گیرنده‌ای می‌باشد؟ ب) گیرنده‌های نوری برخی حشرات، علاوه بر نور مرئی کدام پرتوهای نور خورشید را نیز دریافت می‌کنند؟	۸												
۱	<p>گزاره مربوط به هر کدام از واژه‌ها را پیدا کرده، جلوی آن بنویسید. (یک واژه اضافی است)</p> <table border="1" data-bbox="389 1522 1250 1806"> <thead> <tr> <th>واژه</th> <th>گزاره</th> </tr> </thead> <tbody> <tr> <td>(A) پوکی استخوان</td> <td>الف) برای بازتولید سریع مولکول ATP است.</td> </tr> <tr> <td>(B) کراتین فسفات</td> <td>ب) مفصل بین مهره ها است</td> </tr> <tr> <td>(C) اسید چرب</td> <td>ج) با کمبود ویتامین D ارتباط دارد</td> </tr> <tr> <td>(D) مفصل لولایی</td> <td>د) برای انقباض طولانی مدت ماهیچه است.</td> </tr> <tr> <td>(E) مفصل لغزنده</td> <td></td> </tr> </tbody> </table>	واژه	گزاره	(A) پوکی استخوان	الف) برای بازتولید سریع مولکول ATP است.	(B) کراتین فسفات	ب) مفصل بین مهره ها است	(C) اسید چرب	ج) با کمبود ویتامین D ارتباط دارد	(D) مفصل لولایی	د) برای انقباض طولانی مدت ماهیچه است.	(E) مفصل لغزنده		۹
واژه	گزاره													
(A) پوکی استخوان	الف) برای بازتولید سریع مولکول ATP است.													
(B) کراتین فسفات	ب) مفصل بین مهره ها است													
(C) اسید چرب	ج) با کمبود ویتامین D ارتباط دارد													
(D) مفصل لولایی	د) برای انقباض طولانی مدت ماهیچه است.													
(E) مفصل لغزنده														

«ادامه سوالات در صفحه سوم»

تعداد صفحه: ۴	مدت امتحان: ۹۰ دقیقه	رشته: تجربی	سوالات امتحان شبه نهایی درس: زیست شناسی ۲
نام و نام خانوادگی:	تاریخ امتحان: ۱۴۰۳/۱/۲۷	ساعت شروع: صبح ۷:۳۰	پایه یازدهم دوره دوم متوسطه نظری
مرکز ارزشیابی و تضمین کیفیت نظام آموزش و پرورش http://aee.medu.gov.ir		دانش آموزان دبیرستان‌های دوره دوم متوسطه روزانه سراسر کشور در طرح سه نما سال ۱۴۰۳	
نمره	سوالات (پاسخ‌نامه دارد)		ردیف

۰/۷۵	 <p>با توجه به تصویر به سوالات زیر پاسخ دهید. الف) فقط با ذکر شماره مشخص کنید که در کدام ماهیچه یون‌های کلسیم با انتقال فعال به درون شبکه آندوپلاسمی بازگردانده شده‌اند؟ ب) مفصل متحرک بخش شماره ۳، از چه نوعی می‌باشد؟ ج) نام ماهیچه شماره ۱ را بنویسید.</p>	۱۰
۰/۷۵	<p>در مورد هورمون‌ها پاسخ دهید. الف) کدام هورمون بر حجم ادرار، اثر دارد؟ (یک مورد) ب) استخوان علاوه بر هورمون رشد، بافت هدف چه هورمونی است؟ (یک مورد) ج) کدام هورمون تیروئیدی، در دوران جنینی و کودکی برای نمو دستگاه عصبی مرکزی لازم است؟</p>	۱۱
۱	<p>به سوالات زیر پاسخ دهید: الف) یاخته‌های عصبی غده فوق کلیه با ترشح چه هورمون‌هایی بدن را در حالتی مشابه زمانی که بخش آسیمیک (سمپاتیک) بر بخش پادآسیمیک (پاراسمپاتیک) غلبه می‌کند، قرار می‌دهند؟ ب) کدام هورمون سبب خارج شدن شیر از غدد پستانی می‌شود؟ ج) با وجود رسیدن زنان به سن یائسگی، همچنان هورمون‌های جنسی زنانه در گردش خون آنان قابل مشاهده است. این هورمون‌ها از کدام بخش غده فوق کلیه ترشح می‌شوند؟</p>	۱۲
۱	<p>با توجه به نمودار روبه رو که ساخته شدن لنفوسیت‌ها در بدن را نشان می‌دهد، به پرسش‌های زیر پاسخ دهید: الف) مرحله A در کدام قسمت بدن روی می‌دهد؟ ب) حرف B بیانگر کدامیک از غدد بدن می‌باشد؟ ج) یاخته پادتن ساز (پلاسموسیت) پس از تکثیر کدام حرف تولید می‌شود. د) طی مرحله E لنفوسیت‌های نابالغ چه ویژگی پیدا می‌کنند؟</p> 	۱۳
۱	<p>با مقایسه موارد زیر برای هر کدام، یک تفاوت بنویسید. الف) نقش دفاعی پرفورین و پروتئین مکمل ب) ایمنی حاصل از سرم و واکسن</p>	۱۴

«ادامه سوالات در صفحه چهارم»

باسمه تعالی

تعداد صفحات: ۴	مدت امتحان: ۹۰ دقیقه	رشته: تجربی	سوالات امتحان شبه نهایی درس: زیست شناسی ۲
نام و نام خانوادگی:	تاریخ امتحان: ۱۴۰۳/۱/۲۷	ساعت شروع: صبح ۷:۳۰	پایه یازدهم دوره دوم متوسطه نظری
مرکز ارزشیابی و تضمین کیفیت نظام آموزش و پرورش http://aee.medu.gov.ir		دانش آموزان دبیرستان‌های دوره دوم متوسطه روزانه سراسر کشور در طرح سه نما سال ۱۴۰۳	
نمره	سوالات (پاسخ‌نامه دارد)		ردیف

۱	<p>برای هر یک از موارد زیر دلیل علمی را بنویسید. الف) در طی تقسیم هسته ساختاری به نام دوک تقسیم ایجاد می‌شود. ب) شیمی درمانی باعث ریزش مو در افراد می‌شود.</p>	۱۵
۱	<p>شکل‌های زیر مراحل تقسیم کاستمان (میوزا) را نشان می‌دهند، با توجه به آنها به سوالات زیر پاسخ دهید. الف) شکل ۳ کدام مرحله میوز را نشان می‌دهد؟ ب) اتفاق مهم مرحله ۲ را بنویسید. ج) نام مورد مشخص شده در شماره ۱ را بنویسید. د) با هم ماندن فام‌تن‌ها اغلب در کدام مرحله اتفاق می‌افتد؟</p> 	۱۶
۱/۷۵	<p>به سوالات زیر در رابطه با دستگاه تولید مثلی جانداران پاسخ دهید: الف) هورمون FSH با اثر بر کدام یاخته‌های دستگاه تناسلی مرد، موجب ترشح ترکیباتی می‌شود که تمایز (زامه) اسپرم‌ها را تسهیل و هدایت می‌کند؟ ب) زام یاخته (اسپرماتوسیت) اولیه و ثانویه از لحاظ تعداد مجموعه کروموزومی در آنها چه تفاوتی با یکدیگر دارند؟ ج) نوعی تولید مثل جنسی که فرد ماده گاهی به تنهایی تولید مثل می‌کنند؟ د) در تصویر روبه رو کدام شماره منشأ لایه‌های زاینده جنینی است؟</p> 	۱۷
۰/۵	در جانورانی که لقاح خارجی دارند، تخمک دیواره چسبناک و ژله‌ای دارد. نقش این لایه ژله‌ای چیست؟	۱۸
۰/۵	در تکثیر گیاهان از طریق فن کشت بافت، گیاهان حاصل از یک نوع کال، چه ویژگی دارند؟	۱۹
۲۰	موفق باشید	

باسمه تعالی

مدت امتحان: ۹۰ دقیقه	ساعت شروع: ۷:۳۰	رشته: تجربی	راهنمای تصحیح امتحان شبه نهایی درس: زیست شناسی ۲
تاریخ امتحان: ۱۴۰۳/۱/۲۷		پایه یازدهم دوره دوم متوسطه نظری	
مرکز ارزشیابی و تضمین کیفیت نظام آموزش و پرورش http://aee.medu.gov.ir		دانش آموزان دبیرستان های دوره دوم متوسطه روزانه سراسر کشور در طرح سه نما سال ۱۴۰۳	
ردیف	راهنمای تصحیح	نمره	
۱	الف) درست (ص ۱۸) د) نادرست (ص ۶۱) ز) درست (ص ۹۸) هرمورد (۰/۲۵)	ب) نادرست (ص ۲۰) ه) درست (ص ۶۸) ج) درست (ص ۱۲۰)	ج) درست (ص ۴۵) و) نادرست (ص ۹۲)
۲	الف) نوار مغزی (ص ۱) د) کلسی تونین (ص ۴۹) ز) جسم زرد (ص ۱۰۵) هرمورد (۰/۲۵)	ب) لوب بویایی (ص ۳۱) ه) چرم (ص ۶۴) ج) غده (ص ۱۲۱)	ج) اسکلت بیرونی (ص ۵۲) و) افزایش (ص ۸۳)
۳	الف) تالاموس (ص ۱۰) د) برون ریز (ص ۵۵) ز) هیپوتالاموس (ص ۱۰۶) هرمورد (۰/۲۵)	ب) بیشتر (ص ۳۲) ه) تحمل ایمنی (ص ۷۷)	ج) نامنظم (ص ۳۹) و) همانند (ص ۹۱)
۴	الف) باز شدن کانال های دریچه دار سدیمی و ورود مقدار زیادی یون سدیم (۰/۵) (ص ۵) ب) کاهش (۰/۲۵) (ص ۵) ج) نقطه D (۰/۲۵) (ص ۵)		
۵	از انتقال بیش از حد پیام جلوگیری شود و امکان انتقال پیام های جدید فراهم شود. (۰/۵) (ص)		
۶	الف) لبه پایین بطن سوم ب) بطن های جانبی ج) روی مغز (ص ۱۴)		
۷	الف) جسم مژگانی ب) رنگدانه ملانین از بخش های دیگر در آن رها شده (ص ۲۴، ۲۷ و ۲۸)	ج) شماره ۱ (ص ۲۴)	د) بالا و پایین چشم
۸	الف) گیرنده های شیمیایی	ب) پرتوهای فرابنفش (ص ۳۳ و ۳۴)	
۹	A) (ج) B) (الف) C) (د) E) (ب)		
۱۰	الف) جلو بازو (ص ۴۹)	ب) لولایی (ص ۴۳)	ج) زنده ترین (ص ۳۸)
۱۱	الف) آلدوسترون و ضدادراری (۰/۲۵) (ص ۵۷ و ۵۹) ب) هورمون های پاراتیروئیدی و یا کلسی تونین (۰/۲۵) (ص ۵۹) ج) T3 (۰/۲۵) (ص ۵۸)		
۱۲	الف) اپی نفرین و نوراپی نفرین (۰/۵) ب) اکسی توسین (۰/۲۵)	ج) بخش قشری (۰/۲۵) (ص ۵۹)	
۱۳	الف) مغز استخوان (۰/۲۵) د) حرف D (۰/۲۵) (ص ۷۳)	ب) تیموس (۰/۲۵)	ج) حرف D (۰/۲۵)
۱۴	الف) نقش دفاعی پرفورین و پروتئین مکمل: پرفورین منافذی را در غشای یاخته خودی ایجاد می کند اما پروتئین مکمل در غشای یاخته مهاجم قرار می گیرد. (۰/۵) (ص ۶۹ و ۷۰) ب) ایمنی حاصل از سرم و واکسن: ایمنی حاصل از سرم غیرفعال اما واکسن ایمنی فعال ایجاد می کند. (۰/۵) (ص ۷۵)		

باسمه تعالی

مدت امتحان: ۹۰ دقیقه		ساعت شروع: ۷:۳۰	رشته: تجربی	راهنمای تصحیح امتحان شبه نهایی درس: زیست شناسی ۲
تاریخ امتحان: ۱۴۰۳/۱/۲۷			پایه یازدهم دوره دوم متوسطه نظری	
مرکز ارزشیابی و تضمین کیفیت نظام آموزش و پرورش http://aee.medu.gov.ir		دانش آموزان دبیرستان های دوره دوم متوسطه روزانه سراسر کشور در طرح سه نما سال ۱۴۰۳		
ردیف	راهنمای تصحیح			نمره
۱۵	الف) برای حرکت (۰/۲۵) و جدا شدن صحیح فام تن ها (۰/۲۵) در طی تقسیم هسته ساختاری به نام دوک تقسیم ایجاد می شود. (ص ۸۴) ب) باین روش درمانی می تواند به یاخته های پیاز مو نیز آسیب برساند (۰/۲۵) مرگ این یاخته ها از عوارض جانبی شیمی درمانی است که باعث ریزش مو می شود (۰/۲۵) (ص ۸۹).			۱
۱۶	الف) متافاز (ص ۹۳) ب) جدا شدن کروموزوم ها همتا ج) سانتیول د) آنافاز			۱
۱۷	الف) سلول های سرتولی (۰/۲۵) (ص ۱۰۱) ب) اسپرماتوسیت اولیه حاصل میتوز و دیپلوئید است و اسپرماتوسیت ثانویه حاصل میوز ۱ و هاپلوئید است. (۱) (ص ۹۹) ج) بکرزایی (۰/۲۵) (ص ۱۱۶) د) شماره ۲ (۰/۲۵) (ص ۱۰۹)			۱/۷۵
۱۸	این لایه ژله ای ابتدا از جنین در برابر عوامل نامساعد محیطی محافظت می کند و سپس به عنوان غذای اولیه مورد استفاده جنین قرار می گیرد. (ص ۱۱۷)			۰/۵
۱۹	از نظر ژنتیکی یکسان هستند.			۰/۵
	خدا قوت			۲۰